

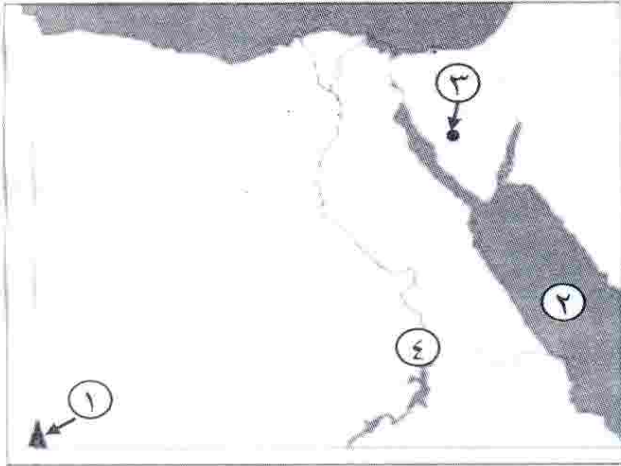
مجاب
عنه

الاختبار الأول

أولاً : الجغرافيا

أجب عن الأسئلة الآتية :

السؤال الأول : (أ) أمامك خريطة صماء لمصر ،
اكتب مدلول الأرقام الموقعة عليها:



- ١- جبل
- ٢- البحر
- ٣- حقل منجنيز
- ٤- محمية

(ب) ما النتائج المترتبة على ...؟

- ١- سقوط الأمطار بغزارة أحياناً على الصحراء .
- ٢- ارتباط سكان البيئة الساحلية بالبحر في معظم أعمالهم .
- ٣- دفء وشفاء وهدوء حركة المياه في البحر الأحمر .

السؤال الثاني : (أ) اكتب كلمة (صح) أمام العبارة الصحيحة ، وكلمة (خطأ) أمام العبارة

الخطأ مع التصويب :

- ١- مساحة الصحراء الشرقية أكبر من مساحة الصحراء الغربية . ()
- ٢- تعد البيئة الساحلية منطقة جذب لسكان البيئات الأخرى . ()
- ٣- تختفى ظاهرة المنخفضات من سطح الصحراء الغربية . ()
- ٤- يتسم السهل الساحلى على خليج العقبة بالضيق . ()
- ٥- المدينة المليونية هي التي يزيد عدد سكانها عن ١٠٠٠٠٠٠ نسمة . ()
- ٦- تتآكل السواحل بفعل الأمطار . ()

(ب) ماذا يحدث إذا ؟

- ١- زادت مياه الأمطار فى المناطق الصحراوية .
- ٢- لم تطل مصر على البحر المتوسط والبحر الأحمر .

ثانياً : التاريخ

السؤال الثالث : (أ) اختر الإجابة الصحيحة مما بين القوسين :-

- ١- أسس جريدة اللواء سنة ١٩٠٠ م .
(مصطفى كامل - محمد فريد - طلعت حرب - سعد زغلول)
- ٢- فشلت القوات البريطانية دخول مصر عن طريق
(كفر الدوار - التل الكبير - كفر الزيات - الإسكندرية)
- ٣- قامت الوحدة بين مصر و عام ١٩٥٨ م .
(ليبيا - السودان - فلسطين - سوريا)
- ٤- ارتبط اسم بالاستقلال الاقصادى لمصر .
(أحمد عرابى - طلعت حرب - ديليسبس - مصطفى كامل)

٥ (ب) ما الدروس المستفادة من ؟

- ١- حرب أكتوبر ١٩٧٣ م.
- ٢- هزيمة أحمد عرابى فى التل الكبير.
- ٣- التعاون العربى فى حرب أكتوبر ١٩٧٣ م.

السؤال الرابع : (أ) بم تفسر ؟

- ١- قيام ثورة ٣٠ يونيو ٢٠١٣ م .
- ٢- فشل العدوان الثلاثى على مصر عام ١٩٥٦ م .
- ٣- اندلاع ثورة الشعب المصرى عام ١٩١٩ م .

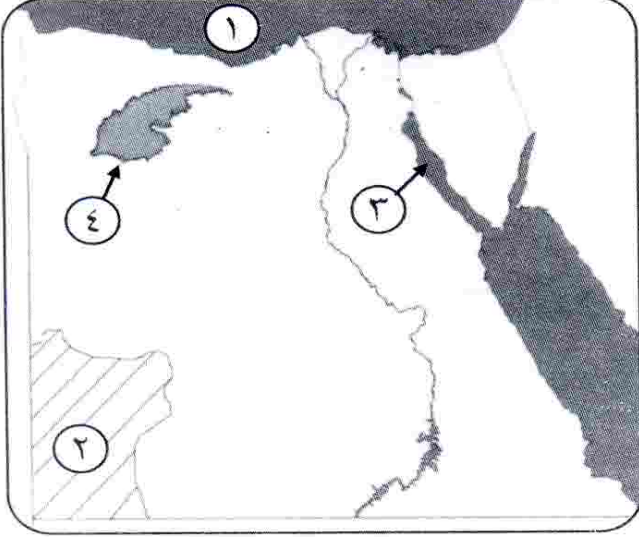
(ب) إلى من تنسب الأعمال الآتية؟

- ١- أسس تنظيم الضباط الأحرار.
- ٢- أنشأ نقابات للعمال ودعا لتأسيس حكومة وطنية وإنشاء مجلس نيابى.

مجاب
عنه

الاختبار الثانى

أولاً : الجغرافيا



السؤال الأول : (أ) أمامك خريطة صماء لمصر .

اكتب مدلول الأرقام الموقعة عليها :

- ١- البحر
- ٢- هضبة
- ٣- خليج
- ٤- منخفض

(ب) اكتب المفهوم الجغرافى الذى تدل عليه العبارات الآتية :

- ١- تجمعات من الرمال تأخذ أشكالاً مختلفة وتنتشر فى مناطق الصحارى.
- ٢- مدينة يزيد عدد سكانها على مليون نسمة.
- ٣- قيام الأمواج بنحت الصخور التى تشكل ساحل البحر.

السؤال الثانى : (أ) بم تفسر؟

- ١- معاناة سكان البيئة الصحراوية من مشكلات اقتصادية عديدة.
- ٢- تملح التربة فى بعض المناطق بالبيئة الصحراوية.
- ٣- تعد السياحة من الأنشطة الاقتصادية المهمة فى البيئة الصحراوية.

(ب) ماذا يحدث إذا ؟

- ١- أهملت الدولة إقامة الفنادق والمخيمات والطرق الجديدة.
- ٢- لم تتواجد التلال الجيرية بالساحل الشمالى الغربى لمصر.

ثانياً : التاريخ

السؤال الثالث : (أ) اختر الإجابة الصحيحة مما بين القوسين وأكمل الفراغات التالية :

- ١- احتلت القوات البريطانية مصر بعد هزيمة الجيش المصرى فى
(كفر الدوار - التل الكبير - الإسماعيلية - القاهرة)
- ٢- فشلت إسرائيل فى اقتحام مدينة أثناء حرب أكتوبر بفضل تعاون الشعب مع الجيش . **بالجيش** (الإسماعيلية - بورسعيد - السويس - القاهرة)
- ٣- التحق أحمد عرابى بالجيش فى عهد الخديو
(توفيق - إسماعيل - سعيد - عباس)
- ٤- كان للرئيس جمال عبد الناصر دور فى تأسيس
(الحركة الوطنية - تنظيم الضباط الأحرار - جريدة اللواء - الحزب الوطنى)

(ب) ما النتائج المترتبة على ؟

- ١- سوء أحوال مصر السياسية والاقتصادية فى أواخر فترة حكم الرئيس الأسبق محمد حسنى مبارك.
- ٢- تأميم شركة قناة السويس عام ١٩٥٦ م.
- ٣- نفى سعد زغلول وبعض زعماء الوفد المصرى للمرة الثانية.

السؤال الرابع : (أ) من الذى قام بالأعمال التالية ؟

- ١- شكل أول حكومة دستورية فى مصر ١٩٢٤ م.
- ٢- دعا لإنشاء مجلس نيابى ومدارس ليلية لتعليم العمال.
- ٣- أسس جريدة اللواء عام ١٩٠٠ م.
- ٤- أسس بنك مصر عام ١٩٢٠ م.
- ٥- أعلن أثناء الحرب العالمية الأولى حق الشعوب فى تقرير مصيرها.

(ب) (تميزت ثورة ٢٥ يناير بأنها ثورة سلمية) .

على ضوء العبارة السابقة - أجب عن الآتى :

- ١- ما الأسباب التى أدت إلى قيام هذه الثورة ؟
- ٢- بم تفسر؟ قيام ثورة ٣٠ يونيو ٢٠١٣ م .
- ٣- عبر بأسلوبك عن كيف يمكن تحقيق العدالة الاجتماعية بالمجتمع المصرى ؟

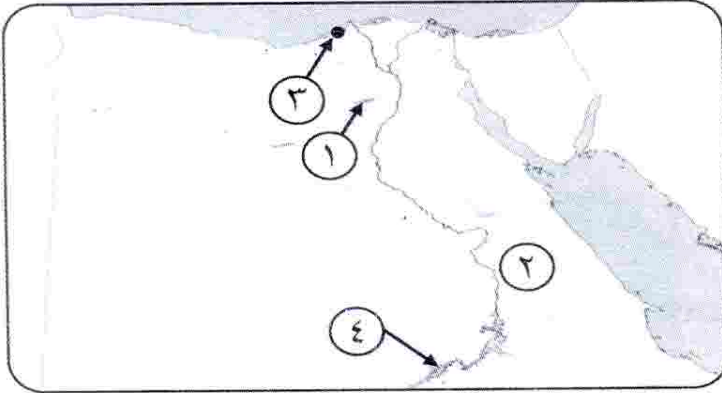
مجاب
عنه

الاختبار الثالث

٤ ٧٧

أولاً : الجغرافيا

السؤال الأول : (أ) أمامك خريطة صماء لمصر ، اكتب مدلول الأرقام الموقعة عليها :



- ١- منخفض
- ٢- الصحراء
- ٣- مدينة
- ٤- بحيرة

(ب) بم تفسر ؟

- ١- السياحة من الأنشطة الاقتصادية المهمة بالبيئة الصحراوية .
- ٢- نمو الشعاب المرجانية على ساحل البحر الأحمر .
- ٣- أهمية التلال الجيرية بالساحل الشمالى الغربى لمصر .

السؤال الثانى : (أ) اكتب كلمة (صح) أمام العبارة الصحيحة وكلمة (خطأ) أمام العبارة

الخطأ مع التصويب :

- ١- يعتمد سكان الواحات على المياه الجوفية فى الزراعة. ()
- ٢- تملح التربة من المشكلات التى تتعرض لها البيئة الصحراوية. ()
- ٣- تتميز مناطق البيئة الساحلية بالبحر الأحمر بغزارة الأمطار. ()
- ٤- النشاط الزراعى لا يعد نشاطاً رئيساً للسكان فى البيئة الساحلية. ()

(ب) ماذا يحدث إذا ؟

- ١- لم توجد مناطق التعدين فى البيئة الصحراوية.
- ٢- لم تتعرض مصر لرياح الخماسين.
- ٣- أهملت الدولة شواطئ البحر المتوسط والأحمر.

(ج) اذكر نتيجة واحدة لكل من :

- ١- إنشاء السدود على الأودية فى البيئة الصحراوية.
- ٢- تآكل سواحل الدلتا. X
- ٣- تلوث البيئة الساحلية. X

ثانياً : التاريخ

السؤال الثالث : (أ) أكمل العبارات التالية :

- ١- تسلم المستشار سلطة البلاد بعد عزل الرئيس محمد مرسى.
- ٢- رغم موافقة على قرار مجلس الأمن رقم ٣٣٨ إلا أنها لم تلتزم به.
- ٣- قدم أحمد عرابى فى ٩ سبتمبر ١٨٨١م مطالب الأمة ومنها
- ٤- خلف مصطفى كامل فى كفاحه
- ٥- شكل الضباط المصريون تنظيم للقيام بالثورة فى ١٩٥٢م.
- ٦- احتلت مصر فى ١٤ سبتمبر ١٨٨٢م.

(ب) بم تفسر ؟

- ١- قيام ثورة ١٩١٩م .
- ٢- خيب مؤتمر الصلح فى باريس آمال المصريين .

السؤال الرابع : (أ) رتب الأحداث التاريخية الآتية من القديم إلى الحديث :

- ١٩٠٦ - ١٩٠٤ - ١٩١٩ - ١٨٨٢ - ١٩٥٢
- معركة التل الكبير - نفي سعد زغلول - الاتفاق الودى - حادثة دنشواى - صدور أول دستور مصرى .

(ب) اذكر عملاً واحداً لكل من :

- ١- طلعت حرب .
- ٢- أحمد عرابى .
- ٣- محمد فريد .

(ج) ما الدروس المستفادة من ثورة ٢٥ يناير ٢٠١١م ؟

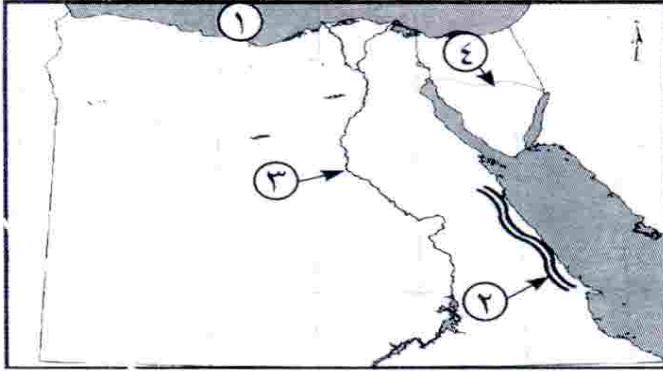
اطلب الآن من جميع مكاتب وفروع قطر الندى
كراسة قطر الندى للمراجعة النهائية والامتحانات
للراغبين فى التفوق

مجاب
عنه

الاختبار الرابع

أولاً : الجغرافيا

السؤال الأول : (أ) أمامك خريطة صماء لمصر ، اكتب مدلول الأرقام الموقعة عليها :



- ١- البحر
- ٢- سلاسل جبال
- ٣- نهر
- ٤- هضبة

(ب) بم تفسر ؟

- ١- تلوث المناطق الشاطئية فى البيئة الساحلية .
- ٢- ضيق السهل الساحلى على خليج العقبة .
- ٣- انتشار الشعاب المرجانية فى مناطق متفرقة على ساحل البحر الأحمر .

السؤال الثانى : (أ) اكتب كلمة (صح) أمام العبارة الصحيحة وكلمة (خطأ) أمام العبارة

الخطأ مع تصويبها :

- ١- من مشكلات السكان فى البيئة الساحلية الازدحام السكانى بالمدن. ()
- ٢- يتسم مناخ البيئة الصحراوية بغزارة الأمطار. ()
- ٣- حرفة الصيد من الحرف الرئيسة فى المدن الساحلية. ()
- ٤- بحيرة المنزلة أولى البحيرات إنتاجاً للأسماك فى مصر. ()

(ب) ما النتائج المترتبة على ؟

- ١- سقوط الأمطار الشتوية على سواحل البحر المتوسط.
- ٢- انتشار المعادن فى البيئة الصحراوية.
- ٣- إنشاء الدولة شبكة من الطرق فى البيئة الصحراوية.

ثانياً : التاريخ

السؤال الثالث : (أ) اختر الإجابة الصحيحة مما بين الأقواس :

- ١- دعا إلى تأسيس حكومة وطنية مستقلة
(جمال عبد الناصر - سعد زغلول - محمد فريد - طلعت حرب)
- ٢- أسس الزعيم أول حكومة دستورية فى مصر.
(أحمد عرابى - سعد زغلول - مصطفى كامل - محمد فريد)
- ٣- أسس مصطفى كامل عام ١٩٠٠م جريدة
(الأهرام - اللواء - المؤيد - العروة الوثقى)
- ٤- تم نفي سعد زغلول فى مارس ١٩١٩م إلى جزيرة
(مالطة - سيشل - قبرص - شديوان)
- ٥- تم يوليو عام ١٩٥٦م .
(تأميم قناة السويس- إعلان الجمهورية- الوحدة بين مصر وسوريا- بناء السد العالى)
- ٦- احتل الإنجليز القاهرة بعد هزيمة عرابى عند
(التل الكبير - كفر الدوار - الإسكندرية - بورسعيد)

(ب) ما المقصود بالمفاهيم الآتية ؟

- ١- الدستور.
- ٢- عدالة اجتماعية.

السؤال الرابع : (أ) أعد كتابة العبارات الآتية بعد تصويب ما فوق الخط :

- ١- تخلت انجلترا عن مساندة القضية المصرية بعد عقد الاتفاق الودى سنة ١٩٠٤م .
- ٢- التحق أحمد عرابى بالجيش فى عهد الخديو توفيق .
- ٣- رفض مصطفى كامل مد امتياز شركة قناة السويس .
- ٤- من نتائج ثورة ٢٣ يوليو توقيع معاهدة السلام مع إسرائيل عام ١٩٧٩م .
- ٥- من مميزات ثورة ٢٥ يناير ٢٠١١ تلاحم الجيش مع النظام الحاكم .
- ٦- تأسيس بنك مصر فى أبريل ١٩٢٠م على يد سعد زغلول .

(ب) أجب عما يأتى :

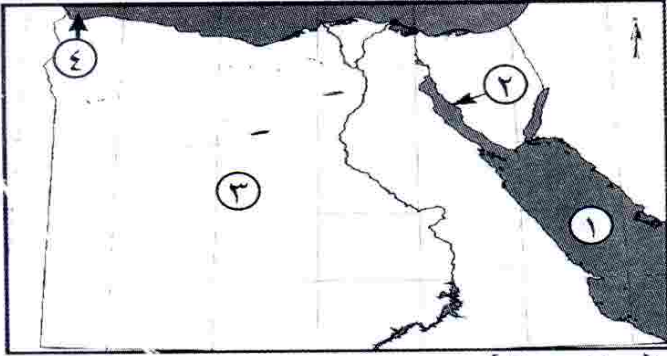
- ١- ما الأسباب المشتركة التى أدت إلى قيام ثورتى ٢٥ يناير ٢٠١١م و ٢٣ يوليو ١٩٥٢م ؟
- ٢- ما دورك اليوم فى بناء مصر؟ X

مجاب
عنه

الاختبار الخامس

أولاً : الجغرافيا

السؤال الأول : (أ) أمامك خريطة صماء لمصر ، اكتب مدلول الأرقام الموقعة عليها :



- ١- البحر
- ٢- خليج
- ٣- الصحراء
- ٤- مدينة

(ب) بم تفسر ؟

- ١- هجرة بعض سكان البيئة الصحراوية إلى البيئات الأخرى .
- ٢- تلوث مياه الشواطئ في البيئة الساحلية .
- ٣- تركيز نسبة كبيرة من السكان في المحافظات الساحلية .

السؤال الثاني : (أ) قارن بين :

البيئة الصحراوية والبيئة الساحلية من حيث (عادات السكان – مشكلات البيئة) .

(ب) اكتب كلمة (صح) أو كلمة (خطأ) أمام العبارات الآتية مع تصويب الخطأ :

- ١- يعيش معظم سكان البيئة الصحراوية في محافظات الحدود . ()
- ٢- صناعة السيارات من الصناعات المنتشرة في البيئة الصحراوية . ()
- ٣- بحيرة المنزلة أقل البحيرات إنتاجاً للأسماك . ()
- ٤- أصدرت الدولة قوانين تجرم إلقاء مخلفات الصرف في البحر . ()

ثانياً : التاريخ

السؤال الثالث : (أ) بم تفسر ؟

- ١- قيام ثورة ٢٥ يناير ٢٠١١ م .
- ٢- دعوة محمد فريد إلى إنشاء المدارس الليلية .
- ٣- مؤتمر الصلح في باريس ١٩١٩ م لم يحقق آمال المصريين .
- ٤- العدوان الثلاثي على مصر ١٩٥٦ م .

(ب) أكمل ما يأتي :

- ١- أصدر الزعيم مصطفى كامل جريدة
- ٢- أعلنت الحماية على مصر في عام ١٩١٤ م .
- ٣- تأسس بنك في ١٩٢٠ م .
- ٤- عادت الملاحة بقناة السويس في يونيو عام م .

السؤال الرابع :

(أ) (كانت ثورة الشعب المصرى فى يناير ٢٠١١م ثورة بيضاء نالت إعجاب العالم).

على ضوء هذه العبارة اذكر :

- ١- سبباً واحداً لقيامها .
- ٢- إحدى مميزاتها .
- ٣- إنجازاً واحداً لها .
- ٤- ما رأيك فى شعار (الجيش والشعب إيد واحدة) .

(ب) لمن تنسب الأعمال الآتية ؟

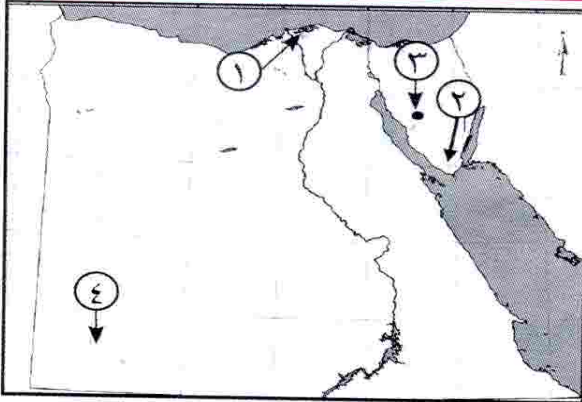
- ١- أسس بنك وطنى بأموال مصرية عام ١٩٢٠ م .
- ٢- قائد ثورة الجيش المصرى ١٨٨١م .
- ٣- زعيم وطنى تم نفيه إلى جزيرة مالطة .
- ٤- أسس تنظيم الضباط الذى قام بثورة ٢٣ يوليو ١٩٥٢م .
- ٥- أنشأ الحزب الوطنى عام ١٩٠٧ م .
- ٦- دعا إلى رفض مد امتياز مشروع قناة السويس بمصر .

مجاب
عنه

الاختبار السادس

أولاً : الجغرافيا

السؤال الأول : (أ) أمامك خريطة صماء لمصر ، اكتب مدلول الأرقام الموقعة عليها :



- ١- بحيرة
- ٢- محمية طبيعية
- ٣- منطقة لتعدين المنجنيز
- ٤- جبل

(ب) ما النتائج المترتبة على ؟

- ١- حركة الرمال فى المناطق الصحراوية .
- ٢- نحت الأمواج للسواحل .
- ٣- تلوث المياه الشاطئية فى البيئة الساحلية .

السؤال الثانى : (أ) صوب ما فوق الخط :

- ١- يعيش سكان البيئة الصحراوية فى محافظات الحضر .
- ٢- تربة البيئة الصحراوية تربة طينية سوداء .

- ٣- يهتم سكان البيئة الصحراوية بالصناعات الثقيلة.
- ٤- يعيش سكان البيئة الصحراوية في ١١ محافظة.
- ٥- يتميز ساحل البحر المتوسط بوجود خلجان مثل خليج العقبة.
- ٦- من جهود الدولة في البيئة الساحلية إنشاء مدن جديدة مثل الإسكندرية.

(ب) قارن بين :

- ١- العادات الإيجابية لسكان البيئتين الصحراوية والساحلية.
- ٢- ما مقترحاتك لتنمية النشاط السياحي بالبيئة الصحراوية؟

ثانياً : التاريخ

السؤال الثالث : (أ) اكتب كلمة (صح) أو (خطأ) مع تصويب الخطأ أمام كل عبارة :

- ١- تخلت فرنسا عن مساندة مصطفى كامل بعد عقد الاتفاق الودى مع إنجلترا عام ١٩٠٤م. ()
- ٢- طالب أحمد عرابى بإقالة وزارة شريف باشا. ()
- ٣- أصدرت بريطانيا تصريح ٢٨ فبراير ١٩٢٢م واعترفت فيه باستقلال مصر. ()
- ٤- أسس طلعت حرب بنك مصر عام ١٩٢٠م برؤوس أموال أجنبية. ()
- ٥- كان إلغاء النظام الملكى وإعلان النظام الجمهورى هو إصلاح لثورة ١٩٥٢م. ()

(ب) بم تفسر ؟

- ١- فشل العدوان الثلاثى على مصر ١٩٥٦م.
- ٢- نجاح حرب أكتوبر ١٩٧٣م.

السؤال الرابع : (أ) لمن تنسب الأعمال الآتية ؟

- ١- تولى سلطة البلاد بعد عزل الرئيس محمد مرسى عام ٢٠١٣م.
- ٢- أسس جريدة اللواء ١٩٠٠م.
- ٣- دعا إلى إنشاء مدارس ليلية للعمال فى مصر.
- ٤- اتخذ القرار بحرب أكتوبر ١٩٧٣م.

(ب) أجب عما يأتى :

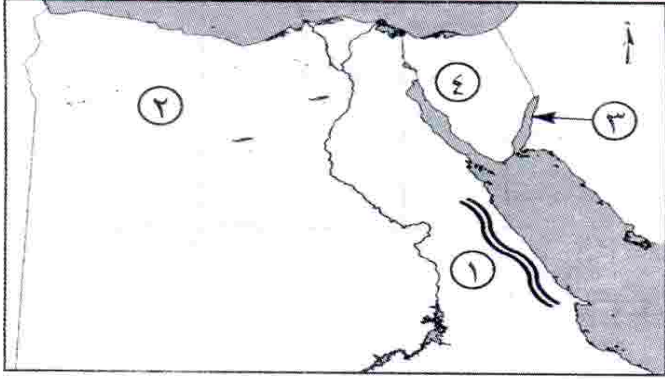
- ١- كيف حققت ثورة يوليو ١٩٥٢م مبدأ القضاء على الاستعمار وأعوانه ؟
- ٢- ما أهداف ثورة ٢٥ يناير ٢٠١١م ؟
- ٣- ما رأيك فى ثورة ١٩١٩م ؟

مجاب
عنه

الاختبار السابع

أولاً: الجغرافيا

السؤال الأول: (أ) أمامك خريطة صماء لمصر، اكتب مدلول الأرقام الموقعة عليها:



- ١- سلاسل جبال
- ٢- منخفض
- ٣- خليج
- ٤- شبه جزيرة

(ب) ماذا يحدث إذا؟

- ١- لم تسقط الأمطار على الساحل الشمالى لمصر.
- ٢- لم تتواجد المياه الجوفية فى الصحراء المصرية.
- ٣- أهملت الدولة إقامة الفنادق والمخيمات والطرق الجديدة.

السؤال الثانى: (أ) اكتب كلمة (صح) أو كلمة (خطأ) أمام العبارات الآتية مع التصويب:

- ١- مساحة الصحراء الشرقية أكبر من مساحة الصحراء الغربية. ()
- ٢- يقع سد الروافعة على وادى العلاقى. ()
- ٣- البيئة الساحلية منطقة جذب لسكان البيئات الأخرى. ()
- ٤- يُعد جبل سانت كاترين أعلى قمة جبلية فى مصر. ()
- ٥- المدينة التى يزيد عدد سكانها عن ١٠٠٠٠٠٠٠ نسمة تعرف بالمدينة المليونية. ()
- ٦- يعمل سكان البيئة الساحلية بالزراعة فى مناطق متعددة. ()

(ب) ما المقصود بكل من؟

- ١- الرأس الأرضى.
- ٢- الواحات.

(ج) ما مقترحاتك: لتنمية النشاط السياحى بالبيئة الصحراوية؟

١٥ من نشاطات الصحراء

السؤال الثالث : (أ) أكمل العبارات الآتية :

- ١- احتلت القوات البريطانية مصر بعد هزيمة الجيش المصرى فى
- ٢- بدأ أحمد عرابى كفاحه منذ عصر الخديو
- ٣- عزل اللورد كرومر من منصبه عقب حادثة
- ٤- ساندت ثورة يوليو ١٩٥٢م معظم الثورات العربية وأبرزها ثورة
- ٥- عقب تصريح ٢٨ فبراير ١٩٢٢م تم إصدار
- ٦- تم نفي .. فى مارس ١٩١٩م إلى جزيرة مالطة .

(ب) بم تفسر ؟

- ١- قيام ثورة ٢٥ يناير ٢٠١١م .
- ٢- فشل العدوان الثلاثى على مصر .

السؤال الرابع : (أ) اختر الإجابة الصحيحة مما بين القوسين :

- ١- تشكلت أول حكومة دستورية برئاسة عام ١٩٢٤م .
- (سعد زغلول - مصطفى كامل - محمد فريد - أحمد عرابى)
- ٢- دعا لتأسيس حكومة وطنية .
- (سعد زغلول - مصطفى كامل - أحمد عرابى - محمد فريد)
- ٣- أسس مصطفى كامل جريدة ١٩٠٠م . (الوقائع - المؤيد - الأهرام - اللواء)
- ٤- يُعد أول إصلاح لثورة ٢٣ يوليو ١٩٥٢م .
- (قانون الإصلاح الزراعى - إعلان الجمهورية - تأميم شركة قناة السويس - إقامة الوحدة بين مصر وسوريا)
- ٥- من أبرز شهداء حرب الاستنزاف الفريق أول
- (عبد المنعم رياض - عبد الحكيم عامر - جمال عبد الناصر - أنور السادات)

(ب) ما رأيك فى ؟

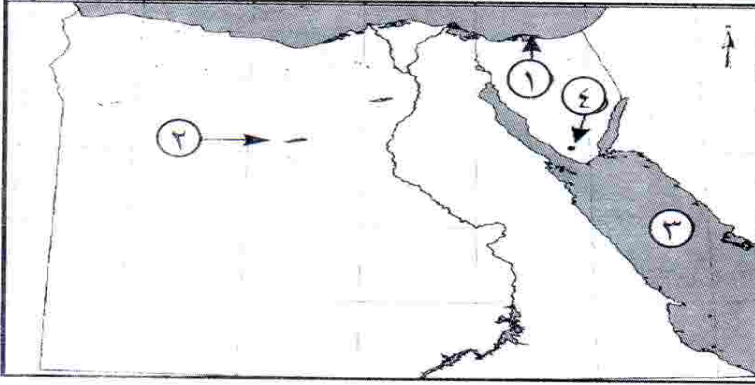
- ١- ثورة ١٩١٩م . ٧٤٥ ١٩٨ ٧
- ٢- الاتفاق الودى بين إنجلترا وفرنسا ١٩٠٤م . ١٨٨٥ ٥٧
- (ج) اذكر نتيجة واحدة لثورة ٣٠ يونيو ٢٠١٣م .

مجاب
عنه

الاختبار الثامن

أولاً : الجغرافيا

السؤال الأول : (أ) أمامك خريطة صماء لمصر ، اكتب مدلول الأرقام الموقعة عليها :



- ١- بحيرة
- ٢- منخفض
- ٣- البحر
- ٤- جبل

(ب) بم تفسر ؟

- ١- نمو النبات الطبيعي في البيئة الصحراوية .
- ٢- ضيق السهول الساحلية المطلة على خليج العقبة .
- ٣- مشاركة المرأة للرجال في كثير من الأعمال في البيئة الساحلية .

السؤال الثاني : (أ) اكتب كلمة (صح) أو (خطأ) أمام العبارات الآتية مع ذكر السبب :

- ١- الجاموس والأبقار من حيوانات البيئة الصحراوية . ()
- ٢- أقيم مشروع استزراع الكتبان الرملية في واحة سيوة لتثبيت الرمال . ()
- ٣- تمتد البيئة الساحلية على البحر المتوسط من طابا حتى حدود السودان . ()
- ٤- تنمو شجيرات المانجروف على سواحل البحر المتوسط . ()
- ٥- البيئة الساحلية منطقة طرد سكانى . ()
- ٦- يعمل عدد كبير من سكان البيئة الصحراوية في حرفة التعدين . ()

(ب) ماذا يحدث إذا ؟

- ١- اهتمت الدولة بإنشاء المدارس في البيئة الصحراوية .
- ٢- أهملت الدولة حماية السواحل .

السؤال الثالث : (أ) اختر الإجابة الصحيحة مما بين القوسين :

- ١- كان أحمد عرابى عضواً بارزاً فى جمعية
(الجامعة المصرية - الوفد المصرى - مصر الفتاة - عابدين)
- ٢- دخل الإنجليز فى سبتمبر عام ١٨٨٢ م .
(الإسكندرية - السويس - الإسماعيلية - القاهرة)
- ٣- أقامت مصر عام ١٩٥٨م وحدة مع (بريطانيا - الجزائر - سوريا - الأردن)
- ٤- نجح الجيش المصرى فى إزالة الساتر الترابى والعبور إلى
(سيناء - الدفرسوار - الإسماعيلية - السويس)
- ٥- من أسباب نجاح حرب أكتوبر ١٩٧٣م
(العقيدة القتالية - قوة الإيمان - السرية التامة - كل ما سبق)
- ٦- من الدول التى شاركت فى العدوان الثلاثى على مصر
(الولايات المتحدة الأمريكية - ألمانيا - إنجلترا - روسيا)

(ب) ما رأيك فى كل مما يأتى ؟

- ١- موقف محمد فريد من مسألة مد امتياز شركة قناة السويس .
- ٢- تشكيل اللجان الشعبية أثناء ثورة ٢٥ يناير ٢٠١١م .

السؤال الرابع : (أ) لمن تنسب الأعمال الآتية ؟

- ١- قاد مظاهرة عابدين السلمية فى سبتمبر ١٨٨١م .
- ٢- عمل محرراً فى جريدة الوقائع المصرية ثم تولى نظارة المعارف ١٩٠٦م .
- ٣- رئيس أمريكى أعلن حق كل أمة فى تقرير مصيرها .
- ٤- قام بتوزيع الثروات بين المواطنين توزيعاً عادلاً .

(ب) ما النتائج المترتبة على ؟

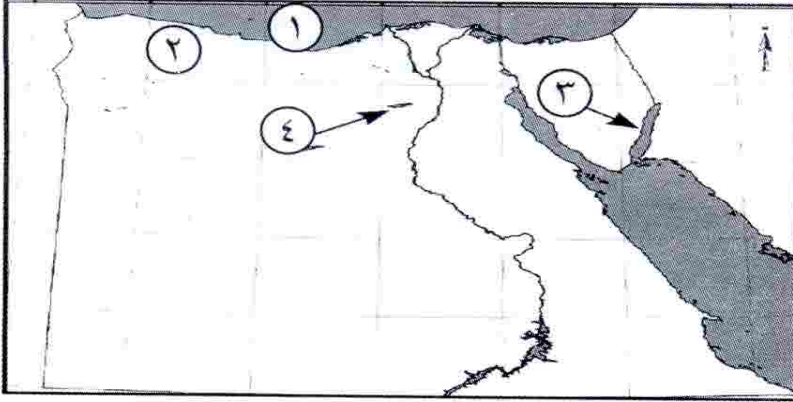
- ١- خطب ومقالات مصطفى كامل .
- ٢- انتصار الجيش المصرى فى حرب أكتوبر ١٩٧٣م .
- ٣- قيام ثورة ٢٥ يناير ٢٠١١م .

مجاب
عنه

الاختبار التاسع

أولاً : الجغرافيا

السؤال الأول : (أ) أمامك خريطة صماء لمصر ، اكتب مدلول الأرقام الموقعة عليها :



- ١- البحر
- ٢- هضبة
- ٣- خليج
- ٤- منخفض

(ب) اكتب المفهوم الجغرافى الذى تدل عليه العبارات التالية :

- ١- تجمعات من الرمال تتراكم بفعل الرياح .
- ٢- قيام الأمواج بنحت الصخور التى تشكل ساحل البحر .

(ج) ما النتائج المترتبة على ؟

- ١- ارتباط سكان البيئة الساحلية بالبحر . X
- ٢- هدوء وصفاء حركة مياه البحر الأحمر .

السؤال الثانى : (أ) بم تفسر ؟

- ١- ظهور عديد من المشكلات الاقتصادية فى البيئة الصحراوية .
- ٢- تملح التربة فى بعض المناطق بالبيئة الصحراوية .
- ٣- اتساع السهول الساحلية المطلة على البحر المتوسط .
- ٤- تلوث المياه الشاطئية فى مصر . X

(ب) ماذا يحدث إذا ؟

- ١- أهملت الدولة إقامة الفنادق والمخيمات والطرق الجديدة فى البيئة الصحراوية .
- ٢- لم تتواجد الكثبان الرملية والتلال الجيرية على الساحل الشمالى لمصر .

السؤال الثالث : (أ) أكمل ما يأتي :

- ١- كان من نتائج ثورة يوليو ١٩٥٢ م إنشاء عديد من المصانع مثل مصنع
- ٢- شارك محمد فريد فى العديد من لبحت المشكلات المصرية السياسية .
- ٣- التحق أحمد عرابى بالجيش فى عهد
- ٤- أعلن الرئيس الأمريكى أثناء الحرب العالمية حق كل شعب فى تقرير مصيره .

(ب) ما النتائج المترتبة على ؟

- ١- سوء الأحوال السياسية والاقتصادية قبل عام ٢٠١٠ م .
- ٢- تأميم شركة قناة السويس ١٩٥٦ م .
- ٣- نفى سعد زغلول وبعض زعماء الوفد المصرى للمرة الثانية .

السؤال الرابع : (أ) من الذى قام بالآتى ؟

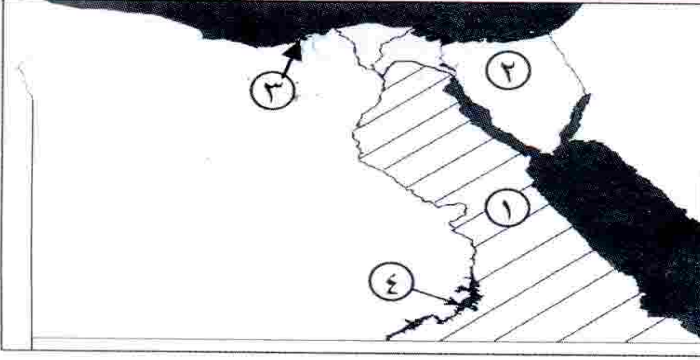
- ١- تولى سلطة البلاد عقب عزل الرئيس محمد مرسى ٢٠١٣ م .
- ٢- أسس جريدة اللواء ١٩٠٠ م .
- ٣- أسس بنك مصر ١٩٢٠ م .
- ٤- قاد ثورة ١٨٨١ م .

(ب) أجب عما يأتي :

- ١- اذكر ثلاثة من نتائج حرب أكتوبر ١٩٧٣ م .
- ٢- ما أسباب قيام ثورة ٣٠ يونيو ٢٠١٣ م؟
- ٣- ما سلبيات تصريح ٢٨ فبراير ١٩٢٢ م بالنسبة لمصر؟

١٩٩ ص

السؤال الأول : (أ) أمامك خريطة صماء لمصر ، اكتب مدلول الأرقام الموقعة عليها :



- ١- الصحراء
- ٢- شبه جزيرة
- ٣- مدينة
- ٤- بحيرة

(ب) بم تفسر؟

- ١- نمو الشعاب المرجانية بسواحل البحر الأحمر .
- ٢- انخفاض نسبة الأمية في المحافظات الصحراوية مؤخراً .
- ٣- تميز سكان البيئة الساحلية بحبهم للعمل الجماعي . X

السؤال الثاني : (أ) اختر الإجابة الصحيحة مما بين الأقواس :

- ١- توجد هضبة مارماريكا في الصحراء الغربية وتقع في الجزء منها .
(الأوسط - الشمالي - الجنوبي - الشرقي)
- ٢- أولى البحيرات إنتاجاً للأسماك بحيرة
(البردويل - المنزلة - البرلس - إيكو)
- ٣- أهم النباتات التي تنمو على ساحل البحر المتوسط أشجار
(المطاط - المانجروف - الزيتون - الغرقد)
- ٤- قامت الدولة بمشروع استزراع الكتبان الرملية جنوب واحة
(الخارجة - الفرافرة - البحرية - سيوة)
- ٥- تعد حرفة من الحرف الرئيسية في البيئة الساحلية .
(الصيد - الرعي - الزراعة - السياحة)
- ٦- من المدن الساحلية المليونية مدينة
(القاهرة - الإسكندرية - الإسماعيلية - الغردقة)

(ب) ما النتائج المترتبة على ؟

- ١- حركة الرمال التي تسببها الرياح فى البيئة الصحراوية .
- ٢- صفاء مياه البحر الأحمر وهدوء حركتها .

ثانياً : التاريخ**السؤال الثالث : (أ) أكمل ما يأتى :**

- ١- احتلت إنجلترا القاهرة بعد معركة
- ٢- تولى زعامة الحركة الوطنية أواخر القرن الـ ١٩ الميلادى
- ٣- شارك فى العدوان الثلاثى على مصر كل من وفرنسا و
- ٤- كان الحاكم الفعلى للبلاد بعد الاحتلال البريطانى لمصر
- ٥- أصدر الزعيم مصطفى كامل جريدة

(ب) رتب الأحداث الآتية :

١٨٨١ ١٩١٤ ١٩٢٢
تصريح ٢٨ فبراير - ثورة ١٩١٩م - الحرب العالمية الأولى - الثورة العرابية .

السؤال الرابع : (أ) دلل على صحة العبارات الآتية :

- ١- عمل محمد فريد على مد نشاط الحركة الوطنية إلى أوروبا .
- ٢- تحرير الاقتصاد المصرى من التبعية الأجنبية .
- ٣- إصدار حكومة ثورة يوليو قانون الإصلاح الزراعى ١٩٥٢م .

(ب) ما المقصود بكل من ؟

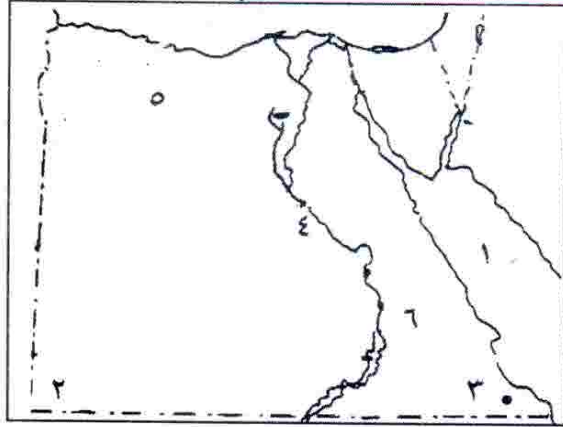
- ١- عدالة اجتماعية .
- ٢- حرب الاستنزاف .

سلسلة كتب قطر الندى التعليمية

* صرح كبير فى سماء التعليم فى مصر يهدف إلى تبسيط المعلومة وتوصيلها إلى عقل الطالب بشكل شيق وبسيط غير معقد .

أولاً : الجغرافيا

السؤال الأول : (أ) أمامك خريطة صماء لمصر اكتب مدلول الأرقام :



- ١- البحر
- ٢- جبل
- ٣- محمية
- ٤- وادى
- ٥- منخفض
- ٦- هضبة

(ب) ما النتائج المترتبة على ؟

- ١- حركة الرمال فى البيئة الصحراوية.
- ٢- تنوع الموارد الطبيعية فى البيئة الصحراوية.
- ٣- نمو الشعاب المرجانية فى البحر الأحمر.

(ج) "قامت الدولة بإقامة العديد من المشروعات فى البيئة الصحراوية"

اذكر اثنين فقط من هذه المشروعات.

السؤال الثانى : (أ) اختر الإجابة الصحيحة مما بين القوسين :

- ١- الشجيرات التى تنمو على طول ساحل البحر الأحمر هى شجيرات
(المانجروف - النخيل - الزيتون - المشمش)
- ٢- من أشهر القبائل التى تعمل بحرفة الرعى فى الصحراء الغربية
هى قبيلة أولاد
(عامر - على - عابد - الشهرى)
- ٣- من المزارات الدينية يشبه جزيرة سيناء دير
(وادى النطرون - المحرق - أبو مقار - سانت كاترين)
- ٤- تعرف المحافظات الصحراوية بمحافظات الحدود وأكثرها سكانًا هى
(الوادى الجديد - شمال سيناء - البحر الأحمر - جنوب سيناء)

(ب) ما المقصود بكل مما يلى ؟

- ١- منخفض.
- ٢- البيئة الساحلية.

(ج) ماذا يحدث إذا ؟ جفت المياه الجوفية فى الواحات.

ثانياً : التاريخالسؤال الثالث : (أ) أكمل العبارات الآتية بكلمات مناسبة :

- ١- أدى كفاح مصطفى كامل إلى عزل من منصبه عقب حادثة عام ١٩٠٦م.
- ٢- انضم أحمد عرابي للجيش المصرى فى عهد باشا وبدأ كفاحه منذ عهد الخديو
- ٣- تم إصدار قانون عام ١٩٥٢م والذى نص على تحديد ملكية الأرض الزراعية.
- ٤- عقدت إنجلترا وفرنسا ما يعرف بـ عام ١٩٠٤م.

(ب) إلى من تنسب الأعمال الآتية ؟

- ١- رفض مد امتياز شركة قناة السويس ١٩١٠م.
- ٢- تولى حكم مصر بعد اغتيال السادات عام ١٩٨١م.
- ٣- أسس بنك مصر عام ١٩٢٠م.

(ج) بم تفسر ؟

- ١- فشل العدوان الثلاثى على مصر ١٩٥٦م.
- ٢- ثورة ٢٥ يناير ٢٠١١م.

السؤال الرابع : (أ) صوب ما تحته خط :

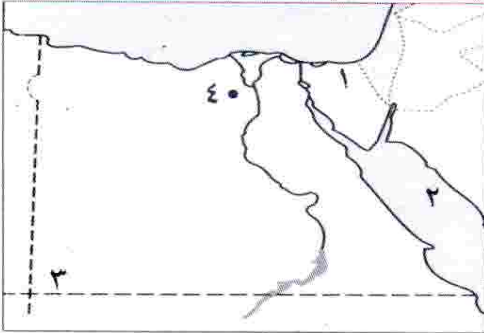
- ١- من مطالب الأمة فى مظاهرة عابدين ١٨٨١م إسقاط وزارة شريف باشا.
- ٢- أعلن الرئيس الأمريكى كارتر مبادئه ومنها حق الشعوب فى تقرير مصيرها.
- ٣- من نتائج ثورة ٢٣ يوليو توقيع معاهدة السلام مع إسرائيل ١٩٧٩م.
- ٤- اكتسب جمال عبد الناصر أهمية فى تاريخ مصر لزعامته ثورة ١٩١٩م.
- ٥- من أسباب حرب أكتوبر ١٩٧٣م إعادة الملاحة البحرية فى قناة بنما.

(ب) رتب الأحداث من القديم إلى الحديث :

- ١- تأميم شركة قناة السويس.
- ٢- افتتاح السد العالى.
- ٣- انتهاء النظام الملكى وإعلان الجمهورية.
- ٤- قيام الوحدة بين مصر وسوريا.

أولاً : الجغرافيا

السؤال الأول : (أ) أمامك خريطة صماء لمصر ، اكتب مدلول الأرقام الموقعة عليها :



- ١- وادى
- ٢- البحر
- ٣- جبل
- ٤- محمية فى الفيوم

(ب) اكتب المصطلح المناسب لكل من:

- ١- أرض منخفضة بالصحراء تقوم بها الزراعة على المياه الجوفية.
- ٢- خليج ذو مدخل ضيق متعمق فى اليابس.

(ج) صنف كلاً ما يأتى إلى العادات الإيجابية والعادات السلبية لسكان البيئة الصحراوية:

- الزواج المبكر - إكرام الضيف - عمل الأطفال فى الرعى -
احترام المجالس العرفية.

السؤال الثانى : (أ) اكتب كلمة (صح) أمام العبارة الصحيحة وكلمة (خطأ) أمام

العبارة الخاطئة :

- ١- تقوم صناعة حفظ التمور على أشجار النخيل. ()
- ٢- تهب رياح الخماسين فى فصل الشتاء. ()
- ٣- لا توجد مزارات سياحية بالبيئة الصحراوية. ()
- ٤- تنتشر التلال الجيرية على السهل الساحلى للبحر المتوسط. ()
- ٥- يتركز السكان فى منطقة أبو طرطور حيث يتم تعدين الحديد. ()

(ب) بم تفسر؟

- تنوع الأنشطة الاقتصادية فى البيئة الصحراوية.

(ج) ما رأيك فى اهتمام الدولة بإقامة المدارس والكليات فى البيئة الصحراوية؟

ثانياً : التاريخ**السؤال الثالث : (أ) أكمل العبارات الآتية بكلمة مناسبة مما يأتي :**

- (طلعت حرب - التدخل الأجنبي - محمد فريد - قناة السويس - الشورى - المعارف)
- ١- من أسباب الثورة العربية ازدياد فى شئون مصر.
 - ٢- رفض الزعيم مد امتياز شركة قناة السويس عام ١٩١٠م.
 - ٣- استطاع تأسيس بنك مصر عام ١٩٢٠م.
 - ٤- تولى سعد زغلول عام ١٩٠٦م نظارة
 - ٥- من أهم إنجازات حرب أكتوبر ١٩٧٣م عودة الملاحة بـ
 - ٦- ما تم تحقيقه من ثورة ٢٥ يناير حل مجلسى الشعب و
- (ب) ماذا كان يحدث إذا :-** لم يتم صدور قانون الإصلاح الزراعى؟

السؤال الرابع : (أ) اختر الإجابة الصحيحة مما بين الأقواس :

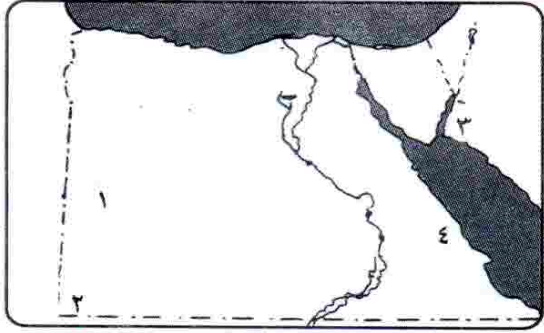
- ١- قام مصطفى كامل بتأسيس جريدة ١٩٠٠م.
- (الوقائع المصرية - المؤيد - اللواء - الأهرام)
- ٢- أصدرت تصريح ٢٨ فبراير ١٩٢٢م واعترفت فيها باستقلال مصر.
- (فرنسا - بريطانيا - ألمانيا - روسيا)
- ٣- قام العدوان الثلاثى على بسبب تأميم شركة قناة السويس ١٩٥٦م.
- (مصر - الجزائر - المغرب - فلسطين)
- ٤- من أسباب ثورة ٢٣ يوليو ١٩٥٢م سوء توزيع وغياب العدالة الاجتماعية.
- (الفقر - الثروات - المرض - الجهل)
- ٥- فى ثورة ٢٥ يناير ٢٠١١م تم تشكيل للمساهمة فى حماية المواطنين.
- (الأحزاب - الرتب المدنية - المؤسسات - اللجان الشعبية)

(ب) ما النتائج المترتبة على :- ثورة ٣٠ يونيو ٢٠١٣م؟

(ج) ما المقصود : بالدستور؟

أولاً : الجغرافيا

السؤال الأول : (أ) أمامك خريطة صماء لمصر اكتب مدلول الأرقام الموقعة عليها :



- ١- بحر
- ٢- جبل
- ٣- خليج
- ٤- منجم بالصحراء الشرقية

(ب) اعط المفهوم الجغرافى الذى تدل عليه كل عبارة من العبارات الآتية :

- ١- مجار مائية كانت تجرى بها المياه قديماً ثم جفت.
- ٢- خليج ذو مدخل ضيق متعمق فى اليابس.
- ٣- امتداد أرضى من اليابس داخل البحر.
- ٤- انخفاض قدرة التربة الإنتاجية وتدهورها.

(ج) ما النتائج المترتبة على؟

- ١- حركة الرمال التى تسببها الرياح فى البيئة الصحراوية.
- ٢- تعمير الصحراء واستصلاح الأراضي.

ثانياً : التاريخ

السؤال الثانى : (أ) اكتب كلمة (صح) أو كلمة (خطأ) أمام كل عبارة مع التصويب:

- ١- مساحة الصحراء الشرقية أكبر من مساحة الصحراء الغربية. ()
- ٢- يستخرج المنجنيز من أم بجمة بسيناء. ()
- ٣- يمتد ساحل شمال الدلتا من الإسكندرية حتى غرب السلوم. ()
- ٤- السهل الساحلى أرض مستوية السطح تمتد من خط الساحل إلى داخل اليابس. ()
- ٥- يسبب سقوط الأمطار فى مناطق البيئة الساحلية للبحر الأحمر دمار كبير للطرق والمنشآت. ()
- ٦- تعد الأرناب البرية والثعالب من الحيوانات البرية. ()

(ب) بم تفسر؟

- ١- اعتدال مناخ البيئة الساحلية.
- ٢- ضيق السهل الساحلى عند خليج العقبة.
- ٣- تراكم الأملاح على سطح التربة وداخل مسامها.
- ٤- نمو الشعاب المرجانية على ساحل البحر الأحمر.

السؤال الثالث : (أ) اختر الإجابة الصحيحة مما بين القوسين :

- ١- احتلت القوات البريطانية مصر بعد هزيمة الجيش المصرى فى
(كفر الدوار - التل الكبير - الإسماعيلية - القاهرة)
- ٢- تولى مصطفى كامل زعامة الحركة الوطنية فى أواخر القرن
(السابع عشر - الثامن عشر - التاسع عشر - العشرين)
- ٣- من الدول التى شاركت فى العدوان الثلاثى على مصر
(فرنسا - ألمانيا - روسيا - اليابان)
- ٤- من أسباب نجاح حرب أكتوبر ١٩٧٣ م
(قوة الإيمان - العقيدة القتالية - السرية التامة - كل ما سبق)
- ٥- أثناء ثورة ٢٥ يناير تم قطع جميع وسائل
(الاتصالات - الإعلام - التواصل الاجتماعى - المواصلات)
- ٦- تولى المستشار عدلى منصور سلطة البلاد بعد عزل
(محمد حسنى مبارك - محمد أنور السادات - محمد مرسى - محمد نجيب)

(ب) عبر برأيك عن ثورة ١٩١٩م ثورة شعبية عامة.

(ج) إلى من تنسب الأعمال الآتية؟

- ١- قاد ثورة الجيش المصرى عام ١٨٨١ م.
- ٢- رفض مد امتياز قناة السويس عام ١٩١٠م.
- ٣- اشترك مع العاملين فى مجال المال وأسس بنك مصر ١٩٢٠م.

السؤال الرابع : (أ) رتب الأحداث التاريخية من القديم إلى الحديث:

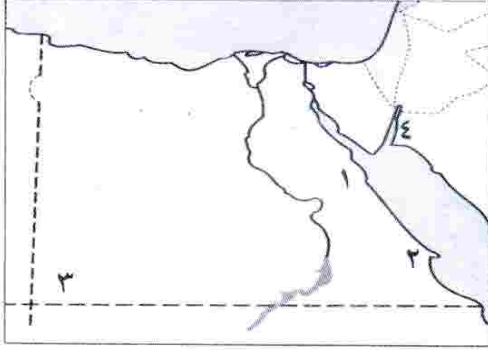
- (إلغاء النظام الملكى - قيام ثورة يوليو - تأميم شركة قناة السويس - العدوان الثلاثى على مصر - قيام الوحدة بين مصر وسوريا - قيام حرب أكتوبر)

(ب) قارن بين :

- (أ) ثورة يوليو ١٩٥٢م وثورة يناير ٢٠١١م من حيث موقف الجيش المصرى.
 - (ب) اتفاقية الجلاء ١٩٥٤م ومعاهدة السلام ١٩٧٩م من حيث الأطراف المشاركة.
- (ج) تحدث عن اثنين من نتائج حرب أكتوبر.**

أولاً : الجغرافيا

السؤال الأول : (أ) أمامك خريطة صماء لمصر اكتب مدلول الأرقام:



- ١- جبل
 ٢- رأس
 ٣- هضبة
 ٤- خليج

(ب) ما النتائج المترتبة على ؟

- ١- تحرك الرمال فى البيئة الصحراوية.
 ٢- انتشار الكثبان الرملية والتلال الجيرية على ساحل البحر المتوسط.
 ٣- هبوب رياح الخماسين فى شهرى مارس وأبريل.

السؤال الثانى : (أ) اكتب كلمة (صح) أمام العبارة الصحيحة وكلمة (خطأ) أمام

العبارة الخاطئة :

- ١- أنشأت الدولة سد الروافعة على وادى قنا لحجز مياه السيول. ()
 ٢- تنمو شجيرات المانجروف فى المناطق الطينية على ساحل البحر الأحمر. ()
 ٣- تقوم قبائل العباددة بالرعى فى الصحراء الغربية. ()
 ٤- يتميز سكان البيئة الصحراوية بإكرام الضيف واحترام المجالس العرفية. ()
 ٥- تمتد البيئة الساحلية على البحر الأحمر من مدينة رفح شمالاً حتى مدينة حلايب جنوباً. ()

(ب) عرف المصطلحات الآتية :

- ١- التصحر. ٢- الخليج.

(ج) قارن بين :

البيئة الصحراوية والبيئة الساحلية من حيث العادات السلبية للسكان.

| وجه المقارنة | البيئة الصحراوية | البيئة الساحلية |
|-----------------|------------------|-----------------|
| العادات السلبية | | |
| | | |
| | | |

ثانياً : التاريخ

السؤال الثالث : (أ) اخترا الإجابة الصحيحة مما بين القوسين :

- ١- اشتعلت مظاهرات ٢٥ يناير ٢٠١١م من ميدان
(بولاق - رمسيس - التحرير - العباسية)
- ٢- فى حرب أكتوبر ١٩٧٣م تم التنسيق بين الجيش المصرى والجيش
(العراقى - السورى - السعودى - التونسى)
- ٣- من أسباب ثورة ٢٣ يوليو ١٩٥٢م السياسية
(ارتفاع الأسعار - غياب العدالة الاجتماعية - فساد الحكام - كل ما سبق)
- ٤- فشلت القوات البريطانية فى دخول البلاد عن طريق عام ١٨٨٢م.
(التل الكبير - قناة السويس - كفر الدوار - الإسماعيلية)
- ٥- تولى سعد زغول نظارة عام ١٩٠٦م.
(الحقانية - المعارف - الزراعة - الجهادية)

(ب) بم تفسر ؟

- ١- خيب مؤتمر الصلح فى باريس آمال المصريين فى الاستقلال.
- ٢- فشل العدوان الثلاثى على مصر عام ١٩٥٦م.

السؤال الرابع : (أ) اكتب ما تشير إليه العبارات الآتية :

- ١- اتفاقية وقعتها مصر مع إنجلترا فى أكتوبر ١٩٥٤م.
- ٢- زعيم وطنى رفض مد امتياز شركة قناة السويس عام ١٩١٠م.
- ٣- ثورة نتج عنها تعديل دستور ٢٠١٢م وصدور دستور يناير ٢٠١٤م.
- ٤- حرب أعادت لمصر دورها الرائد فى المنطقة العربية.

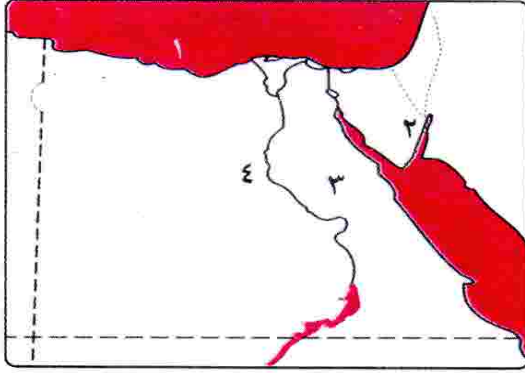
(ب) " دائماً ما تقوم الثورات بسبب الظلم وانتشار الفساد "

فى ضوء هذه العبارة أجب :

- ١- ما المقصود بمصطلح (عدالة اجتماعية) ؟
- ٢- ما عوامل قيام ثورة ١٩١٩م؟
- ٣- ماذا يحدث لو : لم تعقد اتفاقية السلام بين مصر وإسرائيل فى مارس ١٩٧٩م؟
- ٤- ما رأيك فى كفاح " مصطفى كامل " لمقاومة الاحتلال البريطانى؟

أولاً : الجغرافيا

السؤال الأول : (أ) أمامك خريطة صماء لمصر اكتب مدلول الأرقام عليها:



- ١- البحر المتوسط
٢- خليج العقبة
٣- الصحراء الغربية
٤- نهر النيل

(ب) بم تفسر ؟

- ١- السهل الساحلى على خليج العقبة يتسم بالضيق.
٢- قيام الزراعة فى الساحل الشمالى الغربى لمصر.
٣- لحركة الرمال آثارها السلبية فى البيئة الصحراوية.

السؤال الثانى : (أ) اكتب كلمة (صح) أمام العبارة الصحيحة وكلمة (خطأ) أمام

العبارة غير الصحيحة :

- () ١- هضبة مارماريكا توجد فى الصحراء الغربية.
() ٢- يوجد جبل العوينات فى شمال غرب مصر.
() ٣- تنتشر صناعة التمور والسجاد اليدوى فى البيئة الصحراوية.
() ٤- يرتبط وجود البيئة الساحلية بالبحار والمسطحات المائية الكبيرة.
() ٥- تنتشر الشعاب المرجانية على طول ساحل البحر المتوسط.
() ٦- الزواج المبكر من العادات السلبية لسكان البيئة الصحراوية.

(ب) اكتب ما تشير إليه العبارات الآتية :

- ١- مجار مائية كانت تجرى بها المياه قديماً ثم جفت.
٢- أرض شبه مستوية السطح تمتد من خط الساحل إلى داخل اليابس.
٣- توغل لجزء من البحر فى اليابس ويتصل بالبحر بفتحة واحدة.

ثانياً : التاريخ

السؤال الثالث : (أ) تخير الإجابة الصحيحة مما بين القوسين :

- ١- من أسباب ثورة ٢٣ يوليو ١٩٥٢م
- (تعدد الأحزاب - فساد الحكام - تأميم البنوك - إلغاء الرتب)
- ٢- خرج الجيش والشعب في مظاهرة عابدين ١٨٨١م لتقديم مطالب الأمة إلى الخديو
- (توفيق - إسماعيل - عباس - سعيد)
- ٣- عادت الملاحة تحت السيادة المصرية الكاملة في يونيو ١٩٧٥م في
- (البحر الأحمر - نهر النيل - خليج العقبة - قناة السويس)
- ٤- من الدول التي شاركت في العدوان الثلاثي على مصر
- (الصين - إنجلترا - ألمانيا - روسيا)
- ٥- نجح الجيش المصري ١٩٧٣م في إزالة الساتر الترابي والعبور إلى
- (سيناء - القاهرة - الإسماعيلية - السويس)
- ٦- تولى سعد زغلول نظارة المعارف عام م.
- (١٩٠١ - ١٩٠٦ - ١٩١٠ - ١٩١٣)

(ب) صوب ما تحته خط في العبارات الآتية :

- ١- التحق أحمد عرابي بالجيش المصري في عهد الخديو توفيق.
- ٢- تأسس بنك مصر في أبريل ١٩٢٠م على يد سعد زغلول.

السؤال الرابع : (أ) تخير من القائمة (ب) ما يناسبها من القائمة (أ) :

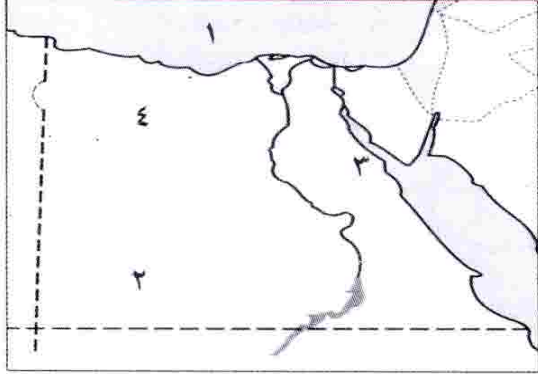
| (ب) | (أ) |
|----------------------|--|
| () مصطفى كامل. | ١- دعا إلى إنشاء مدارس ليلية لتعليم العمال والفقراء مجاناً |
| () جمال عبد الناصر. | ٢- قاد مظاهرة عابدين السلمية في سبتمبر ١٨٨١م |
| () محمد فريد. | ٣- شكل أول حكومة دستورية في مصر عام ١٩٢٤م |
| () ديليسبس. | ٤- أدى كفاحه على إنشاء الحزب الوطني عام ١٩٠٧م |
| () أحمد عرابي. | ٥- قام بتأسيس تنظيم الضباط الأحرار |
| () سعد زغلول. | ٦- احتلت القوات البريطانية قناة السويس بعد خيانتته لعرابي |

(ب) اذكر نتيجة واحدة لكل مما يأتي:

- ١- إعلان مصر تأميم شركة قناة السويس في يوليو ١٩٥٦م.
- ٢- انتصار الجيش المصري في حرب أكتوبر ١٩٧٣م.

أولاً : الجغرافيا

السؤال الأول : (أ) أمامك خريطة صماء لمصر اكتب مدلول الأرقام عليها :



- ١- البحر المتوسط
- ٢- هضبة اكلين اكلين
- ٣- خليج السويس
- ٤- منخفض القطارة

(ب) بم تفسر؟

- ١- ضيق السهل الساحلى على خليج العقبة.
- ٢- استزراع الكثبان الرملية جنوب واحة سيوة.
- ٣- تعد السياحة من الأنشطة الاقتصادية المهمة فى البيئة الصحراوية.

السؤال الثانى : (أ) اختر الإجابة الصحيحة مما بين القوسين :

- ١- يوجد الذهب فى مناجم بالصحراء الشرقية.
- (أم بجمة - السكرى - أبو طرطور - السباعية)
- ٢- من جبال شبه جزيرة سيناء جبل (الشايب - علبة - موسى - العوينات)
- ٣- من أهم النباتات التى تنمو على ساحل البحر المتوسط
- (الزيتون - المطاط - المانجروف - الغرقد)
- ٤- تهب على مصر رياح محملة بالأتربة خاصة فى شهرى مارس وإبريل
- (السموم - السيروكو - الهبوب - الخماسين)
- ٥- من أشهر القبائل التى تعمل بحرفة الرعى فى الصحراء الغربية
- هى قبيلة أولاد
- (عامر - على - عابد - الشهرى)

(ب) اكتب المفهوم المناسب لكل عبارة من العبارات الآتية :

- ١- تدهور التربة الزراعية وانخفاض قدرتها الإنتاجية.
- ٢- أرض منخفضة فى الصحراء تقوم بها الزراعة على المياه الجوفية.
- ٣- مناطق يقل فيها المطر ويسود الجفاف والفقر الشديد فى النباتات مع ندرة الحيوان.
- ٤- تكوينات أفرزتها حيوانات بحرية دقيقة على طول امتداد سواحل البحر الأحمر فى مصر.

ثانياً : التاريخ**السؤال الثالث : (أ) أكمل العبارات الآتية بكلمات مناسبة :**

- ١- احتلت إنجلترا القاهرة بعد معركة
- ٢- نجح الجيش المصرى فى إزالة الساتر الترابى والعبور إلى
- ٣- من الدول التى شاركت فى العدوان الثلاثى على مصر
- ٤- من نتائج ثورة ٣٠ يونيو ٢٠١٣م تسليم السلطة إلى المستشار
- ٥- عقدت إنجلترا وفرنسا ما يعرف بـ عام ١٩٠٤م.

(ب) إلى من تنسب الأعمال الآتية ؟

- ١- أسس بنك مصر عام ١٩٢٠م.
- ٢- رئيس أمريكى أعلن حق كل أمة فى تقرير مصيرها.
- ٣- دعا إلى تأسيس حكومة وطنية مستقلة وإنشاء مجلس نيابى.
- ٤- تولى حكم مصر بعد اغتيال السادات عام ١٩٨١م.
- ٥- رفض مد امتياز شركة قناة السويس ١٩١٠م.

السؤال الرابع : (أ) اكتب كلمة (صح) أمام العبارة الصحيحة وكلمة (خطأ) أمام الخطأ:

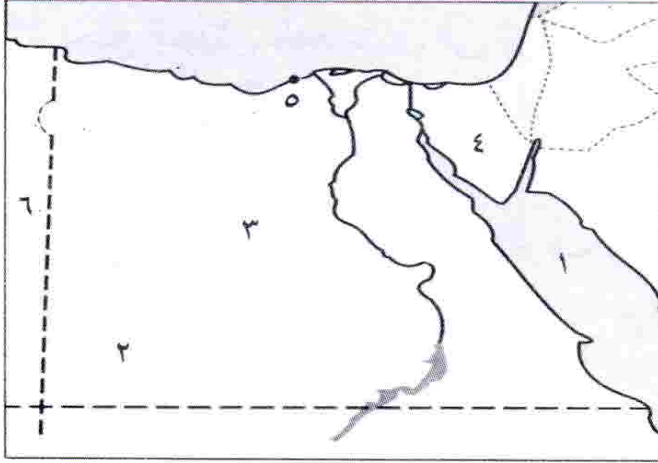
- ١- طالب أحمد عرابى بإسقاط وزارة شريف باشا. ()
- ٢- خيب مؤتمر الصلح آمال المصريين فى الحرية والاستقلال. ()
- ٣- بدأ تجنيد أولاد عمد البلاد ومشايخها فى عهد إبراهيم باشا. ()
- ٤- وجه مصطفى كامل كفاحه ضد الاحتلال داخل وخارج مصر. ()
- ٥- تم جلاء القوات الفرنسية عن مصر بعد اتفاقية الجلاء عام ١٩٥٤م. ()
- ٦- حقق الجيش المصرى تلاحماً وطنياً مع الشعب أثناء ثورة ٢٥ يناير ٢٠١١م. ()

(ب) " شهدت ثورة ٢٣ يوليو ١٩٥٢م وحرب أكتوبر ١٩٧٣م تحولات سياسية**واقتصادية واجتماعية " فى ضوء هذه العبارة اذكر :**

- ١- الأسباب الاجتماعية التى أدت إلى قيام ثورة ٢٣ يوليو ١٩٥٢م.
- ٢- عوامل نجاح حرب أكتوبر ١٩٧٣م.

أولاً : الجغرافيا

السؤال الأول : (أ) أمامك خريطة صماء لمصر ، اكتب مدلول الأرقام الموقعة عليها :



- ١- البحر البحر المتوسط
- ٢- هضبة اكليف الكبر
- ٣- الصحراء الخربة
- ٤- أعلى قمة جبلية في مصر جبل كاسر
- ٥- مدينة الإسكندرية
- ٦- دولة ليبيا

(ب) اكتب ما تشير إليه كل عبارة من العبارات الآتية:

- ١- جزء من الأرض يقل مستواه عن الأرض المحيطة به.
- ٢- تدهور التربة الزراعية وانخفاض قدرتها الإنتاجية.
- ٣- خليج ذو مدخل ضيق متعمق في اليابس.

السؤال الثاني : (أ) اكتب كلمة (صح) أمام العبارة الصحيحة وكلمة (خطأ) أمام

العبارة الخاطئة :

- ١- يعتمد سكان الواحات على المياه الجوفية في الزراعة. ()
- ٢- من الخصائص الاجتماعية في البيئة الصحراوية احترام المجالس العرفية. ()
- ٣- تقع الصحراء الشرقية ما بين البحر المتوسط شمالاً وخليج العقبة والسويس جنوباً. ()
- ٤- تنمو شجيرات المانجروف على ساحل البحر الأحمر. ()
- ٥- أكثر الجبال ارتفاعاً في الصحراء الشرقية جبل الشايب. ()
- ٦- تنمو الشعاب المرجانية في مناطق متفرقة على ساحل البحر المتوسط. ()

(ب) ما النتائج المترتبة على ؟

- ١- وجود التلال الجيرية على ساحل البحر المتوسط.
- ٢- كثرة أشجار النخيل والأيدى العاملة في البيئة الصحراوية.
- ٣- حركة الرمال في المناطق الصحراوية.

ثانياً : التاريخ

السؤال الثالث : (أ) تخير الإجابة الصحيحة مما بين القوسين:

- ١- أسس الزعيم جريدة اللواء عام ١٩٠٠م.
(مصطفى كامل - محمد فريد - طلعت حرب - سعد زغلول)
- ٢- احتلت القوات البريطانية مصر بعد هزيمة الجيش المصرى فى
(كفر الدوار - التل الكبير - الإسماعيلية - القاهرة)
- ٣- تم فى يوليو عام ١٩٥٦م.
(بناء السد العالى - تأمين قناة السويس - إعلان الجمهورية - قانون الإصلاح الزراعى)
- ٤- من أسباب نجاح حرب أكتوبر عام ١٩٧٣م
(العقيدة القتالية - قوة الإيمان - السرية التامة - كل ما سبق)
- ٥- أسس الزعيم أول حكومة دستورية فى مصر عام ١٩٢٤م.
(سعد زغلول - أحمد عرابى - مصطفى كامل - محمد فريد)

(ب) بم تفسر ؟

- ١- العدوان الثلاثى على مصر.
- ٢- تعد ثورة ١٩١٩م ثورة شعبية.
- ٣- تكوين اللجان الشعبية فى جميع أنحاء الجمهورية أثناء ثورة ٢٥ يناير ٢٠١١م.

السؤال الرابع : (أ) تخير من العمود (أ) ما يناسبها من العمود (ب) :

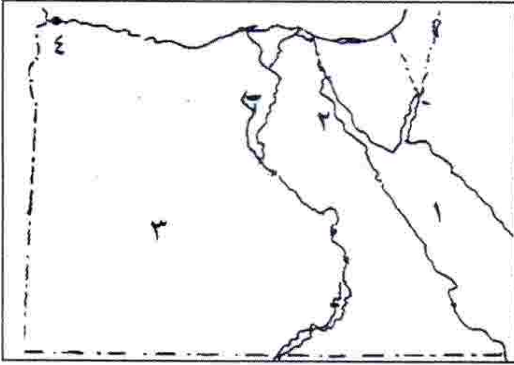
| (ب) | (أ) |
|----------------------|---|
| - الاتفاق الودى. | ١- من تحصينات إسرائيل أمام الجيش المصرى عام ١٩٧٣م |
| - التواصل الاجتماعى. | ٢- تم نفى سعد زغلول للمرة الأولى إلى جزيرة |
| - مالطة. | ٣- من إنجازات ثورة ٢٣ يوليو ١٩٥٢م إصدار قانون |
| - خط بارليف. | ٤- أثناء ثورة ٢٥ يناير تم قطع جميع وسائل |
| - الإصلاح الزراعى. | ٥- أقامت مصر فى عام ١٩٥٨م وحدة مع |
| - سوريا. | ٦- عقد بين إنجلترا وفرنسا عام ١٩٠٤م ما سمي بـ |

(ب) إلى من تنسب الأعمال الآتية ؟

- ١- أسس بنك مصر عام ١٩٢٠م.
- ٢- قاد مظاهرة عابدين السلمية عام ١٨٨١م.
- ٣- أنشأ المدارس الليلية لتعليم العمال والفقراء مجاناً.

أولاً : الجغرافيا

السؤال الأول : (أ) أمامك خريطة صماء لمصر أكتب مدلول الأرقام عليها :



- ١- البحر الأحمر
- ٢- خليج السويس
- ٣- الصحراء الغربية
- ٤- مدينة أسيوط

(ب) ما النتائج المترتبة على ؟

- ١- صفاء مياه البحر الأحمر وهدوء حركتها.
- ٢- إقامة الدولة للعديد من المدارس وبعض الكليات والمعاهد بالمحافظات الصحراوية.

السؤال الثاني : (أ) أكمل العبارات الآتية بالكلمات المناسبة:

- ١- أكثر جبال البحر الأحمر ارتفاعاً جبل
- ٢- تقوم بحرفة الرعى فى محافظة مطروح بالصحراء الغربية قبيلة
- ٣- قامت الدولة باستزراع الكتبان الرملية لتثبيت الرمال جنوب واحة
- ٤- توجد محمية الصحراء البيضاء فى واحة

(ب) اكتب المفهوم الجغرافى الدال على كل عبارة من العبارات الآتية :

- ١- مجار مائية كانت تجرى بها المياه قديماً ثم جفت.
- ٢- تدهور التربة الزراعية وانخفاض قدرتها على الإنتاج.
- ٣- كميات كبيرة من الرمال تحركها الرياح.

ثانياً : التاريخ

السؤال الثالث : (أ) اختر الإجابة الصحيحة من بين القوسين:

- ١- أسس مصطفى كامل عام ١٩٠٠م جريدة
(الوقائع المصرية - الوفد - اللواء - الأهرام)

- ٢- احتلت إنجلترا مصر بعد معركة
 (كفر الدوار - مرج دابق - الريدانية - التل الكبير)
 ٣- شكلت أول حكومة دستورية عام ١٩٢٤م برئاسة
 (محمود سامى البارودى - سعد زغلول - مصطفى النحاس - طلعت حرب)
 ٤- نجح الجيش المصرى فى حرب أكتوبر عام ١٩٧٣م فى تحطيم
 (خط ألوان - خط بارليف - الحاجز المائى - الثغرة الأولى)

(ب) لمن تنسب الأعمال الآتية ؟

- ١- ترقى حتى وصل إلى رتبة أمير آلاى فى عهد الخديو توفيق.
 ٢- دعا إلى رفض مد امتياز شركة قناة السويس عام ١٩١٠م.
 ٣- كان له دور فى تأسيس تنظيم الضباط الأحرار.
 ٤- تولى حكم مصر بعد اغتيال السادات عام ١٩٨١م.

السؤال الرابع : (أ) اكتب كلمة (صح) أمام العبارة الصحيحة وكلمة (خطأ) أمام

العبارة الخاطئة :

- ١- أدت الامتيازات الأجنبية إلى زيادة التدخل الأجنبى فى شئون البلاد. ()
 ٢- تحسنت أحوال مصر الاقتصادية والاجتماعية أثناء الحرب العالمية الأولى. ()
 ٣- قامت مصر بإعادة تنظيم وتسليح القوات المسلحة
 بعد هزيمة ٥ يونيو ١٩٦٧م. ()
 ٤- وقعت مصر اتفاقية السلام مع إنجلترا عام ١٩٧٩م
 لاستعادة أراضيها المحتلة. ()
 ٥- كان شعار ثورة ٢٥ يناير ٢٠١١م عيش - حرية - عدالة اجتماعية. ()

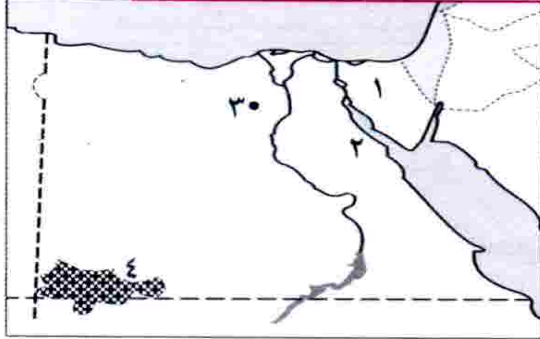
(ب) " قام الشعب المصرى بعدة ثورات على مر التاريخ للتخلص من الفساد والظلم والعدوان "

فى ضوء هذه العبارة أجب عما يأتى:

- ١- اذكر اثنين من مبادئ ثورة ٢٣ يوليو ١٩٥٢م.
 ٢- اذكر اثنين من أسباب فشل العدوان الثلاثى على مصر.

أولاً : الجغرافيا

السؤال الأول : (أ) أمامك خريطة صماء لمصر اكتب ما تدل عليه الأرقام:-



- ١- وادى العرب
- ٢- خليج السويس
- ٣- محمية وادى الرينات
- ٤- هضبة الكلب الأحمر

(ب) بم تفسر؟

- ١- انخفاض نسبة الأمية فى البيئة الصحراوية مؤخرًا.
- ٢- تنوع الأنشطة الاقتصادية فى البيئة الصحراوية.

(ج) ما المقصود بالمفاهيم الآتية؟

- ١- الكثبان الرملية.
- ٢- الخليج.

السؤال الثانى : (أ) صوب ما تحته خط :

- ١- حرفة الزراعة هى الحرفة الرئيسية لسكان البيئة الصحراوية.
- ٢- يؤدى تملح التربة إلى تدمير الحقول الزراعية والمباني والطرق.
- ٣- تنتشر الشعاب المرجانية على ساحل البحر المتوسط.

(ب) أجب عما يأتى :

- ١- قارن بين البيئة الصحراوية والبيئة الساحلية من حيث الموقع والمناخ.
- ٢- ما مقترحاتك فى حل المشكلات الاقتصادية لسكان البيئة الصحراوية؟

ثانياً : التاريخ

السؤال الثالث : (أ) اكتب كلمة (صح) أو كلمة (خطأ) أمام العبارات الآتية :

- ١- طالب أحمد عرابى بالمساواة بين أبناء مصر وغيرهم من باقى الأجناس. ()
- ٢- ساندت ثورة ٢٣ يوليو ١٩٥٢م حركات التحرر الوطنى فى إفريقيا وآسيا. ()
- ٣- استجاب النظام السياسى لمطالب الشباب يوم ٢٥ يناير ٢٠١١م. ()

(ب) بم تفسر؟

- ١- قيام الثورة العرابية.
- ٢- تعد ثورة ١٩١٩م ثورة شعبية عامة.
- ٣- قيام ثورة ٢٣ يوليو ١٩٥٢م.
- ٤- قيام ثورة ٣٠ يونيو ٢٠١٣م.

السؤال الرابع : (أ) اختر الإجابة الصحيحة من بين الأقواس:

- ١- قام مصطفى كامل بتأسيس جريدة عام ١٩٠٠م.
- (الوقائع المصرية - المؤيد - الأهرام - اللواء)
- ٢- من نتائج ثورة ٢٣ يوليو ١٩٥٢م تأميم
- (بنك مصر - شركة قناة السويس - مصر للتأمين - مصر الفتاة)
- ٣- سيطر حزب قبل ثورة ٢٥ يناير ٢٠١١م على أغلبية مقاعد مجلسي الشعب والشورى.
- (الوطنى - الديمقراطى - الثورى - الوفدى)

(ب) اكتب ما تشير إليه العبارات الآتية :

- ١- توزيع الثروات القومية بين المواطنين توزيعاً عادلاً.
- ٢- عدم تبعية اقتصاد مصر لأى دولة أجنبية واعتماد مصر على رؤوس أموالها الوطنية.

(ج) ما النتائج المترتبة على كل من ؟

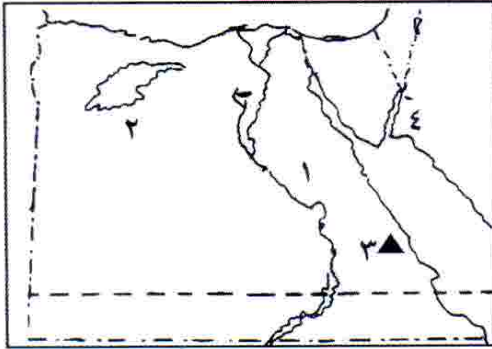
- ١- تصريح ٢٨ فبراير ١٩٢٢م.
- ٢- انتصار السادس من أكتوبر ١٩٧٣م.

محافظة الدقهلية - إدارة بلماس التعليمية

٢٠

أولاً : الجغرافيا

السؤال الأول : (أ) أمامك خريطة صماء لمصر اكتب مدلول الأرقام:



- ١- الصحراء
- ٢- منخفض الملاحة
- ٣- منجم لإنتاج الذهب
- ٤- خليج العقبة

(ب) اكتب ما تشير إليه العبارات الآتية :

- ١- تدهور التربة وانخفاض قدرتها على الإنتاج.
- ٢- مجار مائية كانت تجرى بها المياه قديماً ثم جفت.
- ٣- كميات كبيرة من الرمال المفككة تقوم الرياح بتحريكها من مكان إلى آخر.
- ٤- شريط سهلى قد يتسع أو يضيق تبعاً لاقتراب الجبال أو الهضاب من البحر.

السؤال الثاني : (أ) اكتب كلمة (صح) أو كلمة (خطأ) مع تصويب الخطأ :

- ١- أكثر جبال البحر الأحمر ارتفاعاً جبل حماطة. ()
- ٢- من العادات الإيجابية في البيئة الصحراوية عمل الأطفال في الرعى. ()
- ٣- تعيش نسبة كبيرة من سكان مصر في البيئة الصحراوية. ()
- ٤- تعد الصحراء الشرقية أكبر صحارى مصر من حيث المساحة. ()

(ب) بم تفسر؟

- ١- قيام صناعة التمر في البيئة الصحراوية.
- ٢- نمو الشعاب المرجانية على ساحل البحر الأحمر.

ثانياً : التاريخ

السؤال الثالث : (أ) اختر الإجابة الصحيحة مما بين القوسين:

- ١- كان أحمد عرابى عضواً بارزاً فى جمعية
(الجامعة المصرية - الوفد المصرى - مصر الفتاة - عابدين)
- ٢- تم فى يوليو ١٩٥٦م.
(تأميم شركة قناة السويس)
- ٣- إعلان الجمهورية - الوحدة بين مصر وسوريا - بناء السد العالى)
عزل اللورد كرومر من منصبه عقب حادثة
- ٤- قامت الوحدة بين مصر و عام ١٩٥٨م.
(ليبيا - سوريا - السودان - فلسطين)

(ب) قال الزعيم أحمد عرابى : " لقد خلقنا الله أحراراً ولم يخلقنا تراثاً أو عقاراً "

- ١- اذكر أسماء زعماء الثورة العرابية الذين أدوا دورهم الوطنى بجانب أحمد عرابى.
- ٢- ما اسم الاتفاقية التى عقدت بين مصر وبريطانيا أكتوبر ١٩٥٤م؟
- ٣- ما هى مطالب الأمة فى مظاهرة عابدين السلمية ٩ سبتمبر ١٨٨١م؟

السؤال الرابع : (أ) اكتب ما تشير إليه العبارات الآتية :

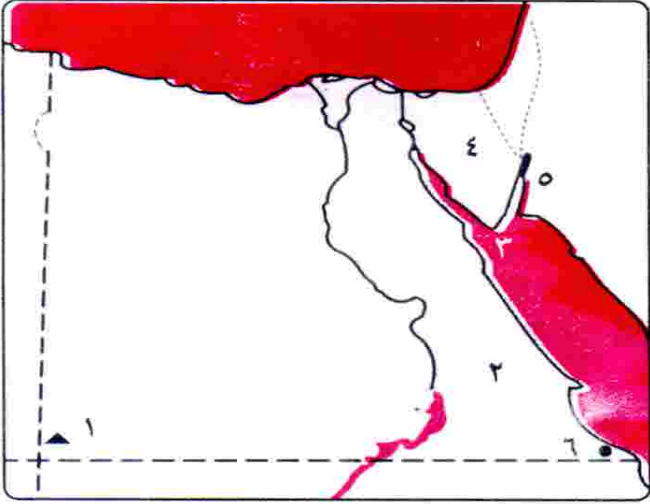
- ١- توزيع الثروات القومية بين المواطنين توزيعاً عادلاً.
- ٢- من التحصينات العسكرية التى أقامتها إسرائيل أمام الجبهة المصرية.
- ٣- مجموعة منظمة تشترك فى وضع برامج لتحسين شئون الدولة.
- ٤- صدر فى سبتمبر ١٩٥٢م ونص على تحديد ملكية الأراضى الزراعية.

(ب) ما النتائج المترتبة على؟

- ١- تأميم شركة قناة السويس عام ١٩٥٦م.
- ٢- نفى سعد زغلول وبعض زعماء الوفد المصرى للمرة الثانية.

أولاً : الجغرافيا

السؤال الأول : (أ) أمامك خريطة صماء لمصر ، اكتب مدلول الأرقام الموضحة :



- ١- جبل جبل الشيخ
- ٢- وادى وادى النيل
- ٣- محمية محمية رأس مينا
- ٤- حقل منجنيز حقل منجنيز
- ٥- خليج خليج السويس
- ٦- مدينة مدينة الإسكندرية

(ب) ماذا يحدث إذا ؟

- ١- أهملت الدولة إقامة الفنادق والمحميات الطبيعية.
- ٢- لم تقم الدولة بإنشاء سد الروافعة.

(ج) برهن على صحة العبارة الآتية :

(تهتم الدولة بنشر التعليم بين أبناء البيئة الصحراوية)

السؤال الثانى : (أ) اختر الإجابة الصحيحة مما بين القوسين :

- ١- من هضاب الصحراء الغربية هضبة
(الجلف الكبير - الجلالة البحرية - التيه - العباددة)
- ٢- تعرف المحافظات الصحراوية بمحافظات الحدود وأكثرها سكانًا هي
(الوادى الجديد - شمال سيناء - البحر الأحمر - جنوب سيناء)
- ٣- من أشهر القبائل التى تعمل بحرفة الرعى فى الصحراء الغربية قبيلة أولاد
(عامر - على - عابد - الشهرى)
- ٤- تراكم الأملاح على سطح التربة وداخلها يسمى
(حركة الرمال - التسميد - تملح التربة - السيول)
- ٥- الشجيرات التى تنمو على طول ساحل البحر الأحمر شجيرات
(المانجروف - النخيل - الزيتون - المشمش)

(ب) ما النتائج المترتبة على ؟

- ١- توافر الصوف فى البيئة الصحراوية.
- ٢- صفاء مياه البحر الأحمر وهدوء حركتها.

ثانياً : التاريخ

السؤال الثالث : (أ) أكمل العبارات الآتية :

- ١- التحق أحمد عرابى بالجيش فى عهد
- ٢- أسس الحزب الوطنى لمصر.
- ٣- رفض مد امتياز قناة السويس عام ١٩١٠م.
- ٤- أعلن الرئيس الأمريكى مبادئه ومنها حق الشعوب فى تقرير مصيرها.
- ٥- أسس تنظيم الضباط الأحرار عام ١٩٥٢م.
- ٦- أقيمت وحدة عربية بين مصر و عام ١٩٥٨م.

(ب) بم تفسر ؟

- ١- ارتباط استقلال مصر السياسى باستقلالها الاقتصادى.
- ٢- قيام حرب أكتوبر عام ١٩٧٣م.

(ج) رتب الأحداث الآتية من القديم إلى الحديث:

(ثورة ٣٠ يونيو ٢٠١٢م - الحرب العالمية الأولى - العدوان الثلاثى على مصر - حادثة دنشواى)

السؤال الرابع : (أ) اكتب كلمة (صح) أو كلمة (خطأ) أمام العبارات الآتية:

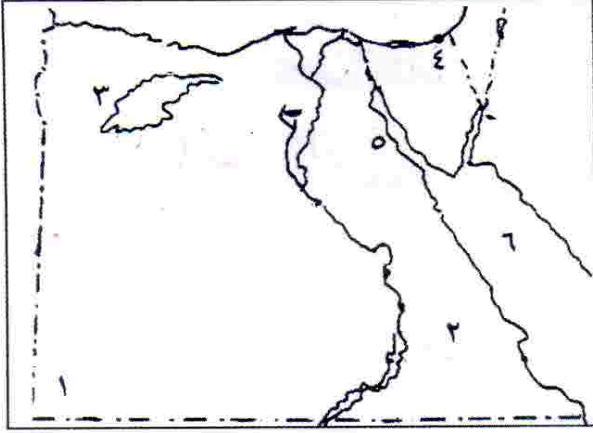
- ١- أدت الامتيازات الأجنبية إلى التدخل الأجنبى فى شئون مصر. ()
- ٢- رفضت سلطات الاحتلال سفر أعضاء الوفد المصرى إلى إنجلترا. ()
- ٣- ساهم تدنى الأحوال السياسية والاقتصادية فى قيام ثورة ٢٥ يناير ٢٠١١م. ()

(ب) ما النتائج المترتبة على ؟

- ١- مقاطعة المصريين للبضائع الإنجليزية.
- ٢- ثورة ٣٠ يونيو عام ٢٠١٣م.

أولاً : الجغرافيا

السؤال الأول : (أ) أمامك خريطة صماء لمصر . اكتب مدلول الأرقام الموقعة عليها:



- ١- جبل المرتبات
- ٢- وادى اللوات
- ٣- منخفض القطارة
- ٤- مدينة بورسعيد
- ٥- خليج السويس
- ٦- البحر الأحمر

(ب) ما النتائج المترتبة على؟

- ١- وجود الآبار والعيون المائية داخل الواحات.
- ٢- صفاء مياه البحر الأحمر وهدوء حركتها.
- ٣- كثرة أشجار النخيل فى البيئة الصحراوية.

السؤال الثانى : (أ) اكتب كلمة (صح) أو كلمة (خطأ) أمام العبارات الآتية:

- ١- من أشهر جبال شبه جزيرة سيناء جبل سانت كاترين وجبل الشايب وجبل علبة. ()
- ٢- يعمل معظم سكان البيئة الصحراوية بحرفة الرعى. ()
- ٣- أقيم مشروع استزراع الكثبان الرملية جنوب واحة الفرافرة لتثبيت الرمال. ()
- ٤- السهول الساحلية على خليج العقبة ضيقة. ()
- ٥- الشرم خليج ذو مدخل ضيق متعمق فى اليابس. ()
- ٦- يتركز السكان حول الواحات بالصحراء الشرقية. ()

(ب) اكتب المصطلح الجغرافى الدال على العبارات الآتية :

- ١- تجمعات من الرمال تتراكم بفعل الرياح.
- ٢- عبارة عن تكوينات أفرزتها حيوانات بحرية دقيقة على سواحل البحر الأحمر.
- ٣- مجار مائية كانت تجرى بها المياه قديماً ثم جفت.

ثانياً : التاريخ

السؤال الثالث : (أ) اختر الإجابة الصحيحة مما بين الأقواس:

- ١- قاد مظاهرة عابدين فى سبتمبر ١٨٨١م.
(محمود سامى البارودى - أحمد عرابى - على الروبى - محمد عبده)
- ٢- قام مصطفى كامل بتأسيس جريدة عام ١٩٠٠م.
(الوقائع المصرية - المؤيد - اللواء - الأهرام)
- ٣- دعا إلى إنشاء مدارس ليلية لتعليم العمال والفقراء مجاناً.
(مصطفى كامل - محمد فريد - سعد زغول - رياض باشا)
- ٤- أعلن الرئيس الأمريكى لمبادئه ومنها حق الشعوب فى تقرير مصيرها.
(ولسن - أوباما - كلينتون - جورج بوش)
- ٥- عقدت اتفاقية الجلاء بين مصر و فى أكتوبر ١٩٥٤م.
(فرنسا - إسرائيل - ألمانيا - بريطانيا)

(ب) ما المقصود بـ ؟

- ١- مؤتمر الصلح.
- ٢- عدالة اجتماعية.

السؤال الرابع : (أ) اختر من القائمة (ب) الكلمة المناسبة لعبارة القائمة (أ) :

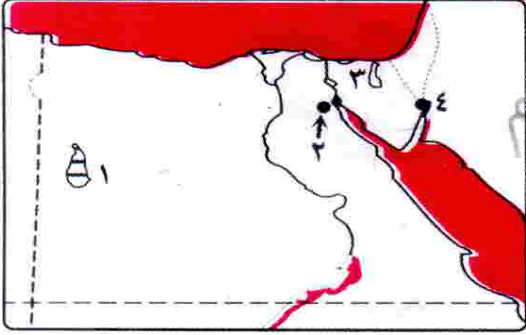
| (ب) | (أ) |
|----------------------------|---|
| () التحرير. | ١- نفي سعد زغلول فى المرة الأولى إلى جزيرة |
| () مالطة. | ٢- أسس بنك مصر عام ١٩٢٠م |
| () طلعت حرب. | ٣- نص على تحديد ملكية الأرض الزراعية |
| () قانون الإصلاح الزراعى. | ٤- القضاء على أسطورة التفوق للجيش الإسرائيلى من نتائج حرب |
| () ٦ أكتوبر ١٩٧٣م. | ٥- الميدان الرئيسى لاشتعال مظاهرات ٢٥ يناير ٢٠١١م. |
| () الخديو إسماعيل. | |

(ب) بم تفسر ؟

- ١- أسباب حرب أكتوبر ١٩٧٣م.
- ٢- فشل العدوان الثلاثى على مصر.
- ٣- ازدياد التدخل الأجنبى فى شئون مصر فى عصر الخديو توفيق.

أولاً : الجغرافيا

السؤال الأول : (أ) أمامك خريطة صماء لمصر وضع مدلول الأرقام الموقعة عليها :



- ١- منطقة تنتشر بها الكثبان الرملية بحر الشمال
- ٢- هضبة البلية البحرية
- ٣- وادى الحريش
- ٤- مدينة هليان

(ب) اكتب المفهوم الجغرافى الذى تشير إليه كل عبارة من العبارات الآتية:

- ١- تدهور التربة الزراعية وانخفاض قدرتها الإنتاجية.
- ٢- شريط سهلى قد يتسع أو يضيق تبعاً لاقتراب الجبال أو الهضاب من البحر.

السؤال الثانى : (أ) اكتب كلمة (صح) أو كلمة (خطأ) أمام العبارات الآتية:

- ١- تمد أشجار الدوم جذورها لمسافات بعيدة للتغلب على ظروف الجفاف. ()
- ٢- يعانى سكان البيئة الصحراوية من مشكلات اقتصادية لوفرة الموارد الطبيعية بها. ()
- ٣- تتميز السهول الساحلية المطلة على البحر المتوسط بوجود الشروم. ()

(ب) برهن على صحة كل العبارات الآتية :

- ١- اعتماد الصناعات الحرفية بالبيئة الصحراوية على الموارد المتوفرة بها.
- ٢- اهتمام الدولة بإقامة مشروعات لتنمية البيئة الصحراوية.

ثانياً : التاريخ

السؤال الثالث : (أ) أكمل العبارات الآتية :

- ١- يعد اشتراك فى ثورة ١٩١٩م تطوراً اجتماعياً ملحوظاً فى تاريخ مصر.
- ٢- تمكنت قواتنا المسلحة من إزالة وعبور الجيش المصرى إلى سيناء ١٩٧٣م.
- ٣- كان لاطمئنان الجماهير إلى موقف المؤيد لمطالبهم دوره فى نجاح ثورة ٢٥ يناير سنة ٢٠١١م.

(ب) اذكر نتيجة واحدة لكلاً مما يأتى :

- ١- توقيع الاتفاق الودى بين إنجلترا وفرنسا عام ١٩٠٤م.
- ٢- العدوان الإسرائيلى على مصر عام ١٩٦٧م.

السؤال الرابع : (أ) اختر الإجابة الصحيحة مما بين الأقواس :

١- قامت الثورة العرابية بسبب

(الاحتلال البريطاني لمصر – تزوير انتخابات مجلس الشعب –

ازدياد التدخل الأجنبي – جميع ما سبق)

٢- ترتب على قبول الحكومة المصرية لتصريح ٢٨ فبراير سنة ١٩٢٢م

(إعلان الحماية البريطانية على مصر – تشكيل أول حكومة دستورية –

توقيع اتفاقية الجلاء – جميع ما سبق)

٣- يعد أحد الأسباب الاجتماعية لقيام ثورة ٢٣ يوليو سنة ١٩٥٢م.

(الامتيازات الأجنبية – سوء توزيع الثروات – ارتفاع الأسعار – جميع ما سبق)

(ب) قارن بين : ثورة ٢٣ يوليو ١٩٥٢م وثورة ٢٥ يناير سنة ٢٠١١م

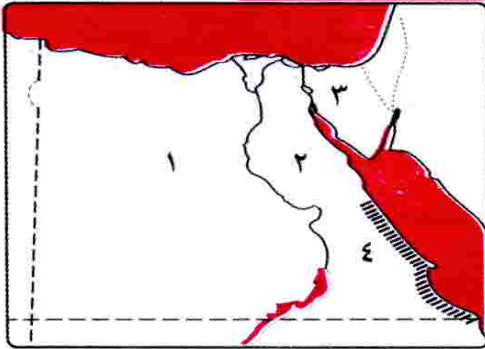
من حيث إنجازات كلاّ منهما.

محافظة المنيا – إدارة بنى مزار التعليمية

٢٤

أولاً : الجغرافيا

السؤال الأول : (أ) أمامك خريطة صماء لمصر اكتب مدلول الأرقام:



١- الصحراء الفريم

٢- الصحراء الشرقية

٣- شبه جزيرة سيناء

٤- جبال الجبال

(ب) بم تفسر :- تنوع الأنشطة الاقتصادية فى البيئة الصحراوية.

(ج) ما النتائج المترتبة على :- تحرك الرمال فى البيئة الصحراوية.

السؤال الثانى : (أ) أكمل العبارات الآتية :

١- تنتشر الشعاب المرجانية على ساحل نظرًا المياه و حركتها.

٢- تمتد البيئة الساحلية على طول ساحل البحر المتوسط من شرق مدينة

فى أقصى الشرق حتى غرب مدينة غربًا.

(ب) ضع المفهوم المناسب لكل من العبارات الآتية:

- ١- خليج ذو مدخل ضيق متعمق فى اليابس.
- ٢- امتداد أرضى من اليابس داخل البحر.

ثانياً : التاريخ**السؤال الثالث : (أ) اكتب كلمة (صح) أمام العبارات الصحيحة وكلمة (خطأ) أمام****العبارات الخاطئة :**

- ١- التحق أحمد عرابى بالجيش المصرى فى عهد سعيد باشا. ()
- ٢- وافق مؤتمر الصلح فى باريس على استقلال مصر. ()
- ٣- أسس طلعت حرب بنك مصر برؤوس أموال مصرية. ()
- ٤- دعم محمد فريد مد امتياز شركة قناة السويس. ()

(ب) بم تفسر : ثورة ١٩١٩م ثورة شعبية؟**(ج) ما المقصود بـ : الدستور؟****السؤال الرابع : (أ) اختر الإجابة الصحيحة من بين الأقواس :**

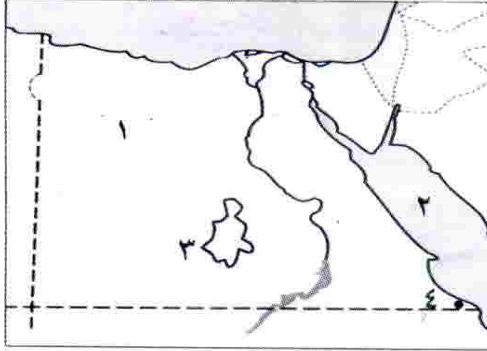
- ١- من أسباب سوء أحوال مصر قبل ثورة ١٩٥٢ م
- (فساد الحكم – تعدد الأحزاب – تأمين قناة السويس – إلغاء الرتب)
- ٢- عادت الملاحة فى تحت السيطرة المصرية الكاملة فى يونيو ١٩٧٥م.
- (قناة السويس – البحر الأحمر – البحر المتوسط – خليج العقبة)
- ٣- سيطر الحزب قبل ثورة يناير ٢٠١١ م على أغلبية مقاعد مجلس الشعب والشورى.
- (الوفد – الديموقراطى – الوطنى – الثورى)

(ب) ما النتائج المترتبة على ؟

- ١- سوء الحالة الأمنية بالمجتمع المصرى بعد ٢٥ يناير ٢٠١١م.
- ٢- تأمين شركة قناة السويس فى يوليو ١٩٥٦م.

أولاً : الجغرافيا

السؤال الأول : (أ) على خريطة مصر الصماء اكتب مدلول الأرقام التالية :



- ١- الصحراء الغربية
- ٢- البحر الأحمر
- ٣- منخفض الكانيس
- ٤- محمية سهل سيناء

(ب) ما النتائج المترتبة على .. ؟

- ١- وجود الآبار والعيون المائية داخل الواحات بالمنخفضات.
- ٢- حركة الرمال بفعل الرياح على البيئة الصحراوية.

السؤال الثانى : (أ) أكمل الجمل الآتية بكلمات مناسبة :

- ١- تنمو فى البيئة الصحراوية بعض النباتات الطبيعية منها
- ٢- من الخصائص الاقتصادية لسكان البيئة الصحراوية
- ٣- يتميز ساحل البحر المتوسط بوجود الرؤوس الأرضية مثل رأس
- ٤- يوجد الذهب فى مناجم
- ٥- من أشهر القبائل التى تعمل بحرفة الرعى فى الصحراء الشرقية قبيلة

(ب) بم تفسر؟ ضيق السهل الساحلى على خليج العقبة.

ثانياً : التاريخ

السؤال الثالث : (أ) اكتب كلمة (صح) أمام العبارة الصحيحة وكلمة (خطأ) أمام

العبارة غير الصحيحة :

- ١- أدت الامتيازات الأجنبية إلى التدخل الأجنبى فى شئون مصر. ()
- ٢- رفضت سلطات الاحتلال سفر الوفد المصرى إلى باريس. ()
- ٣- احتلت إسرائيل الضفة الغربية لقناة السويس بعد عدوان ١٩٦٧م. ()
- ٤- التزمت كل من مصر وإسرائيل بقرار مجلس الأمن رقم ٣٣٨. ()

(ب) بم تفسر؟

- ١- تكوين اللجان الشعبية فى جميع أنحاء الجمهورية أثناء ثورة ٢٥ يناير ٢٠١١م.
- ٢- فشل إسرائيل فى اقتحام مدينة السويس.

السؤال الرابع : (أ) اختر الإجابة الصحيحة من بين الأقواس :

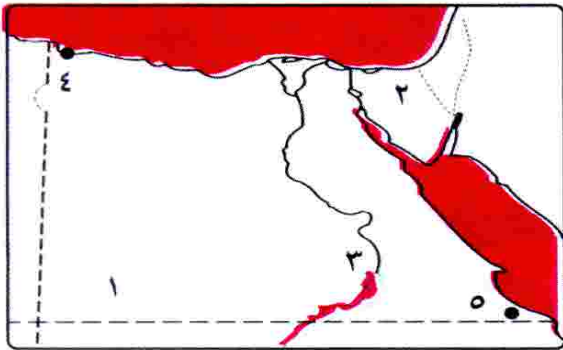
- ١- قام مصطفى كامل بتأسيس جريدة عام ١٩٠٦م.
(الوقائع المصرية - المؤيد - اللواء - الأهرام)
- ٢- يساهم بنك مصر فى تمويل المشروعات
(العامة - الشخصية - الوطنية - الحربية)
- ٣- بدأت ثورة ٢٥ يناير من ميدان بوسط القاهرة.
(المهندسين - التحرير - العتبة - الهرم)

(ب) اكتب المفهوم الذى تدل عليه كل عبارة مما يأتى :

- ١- توزيع الثروات القومية بين المواطنين توزيعاً عادلاً.
- ٢- مجموعة منظمة من الأعضاء تشترك فى وضع برامج محددة لتحسين شئون الدولة فى كافة المجالات من خلال المشاركة فى مسئوليات الحكم.

محافظة أسبوط - إدارة منفلوط التعليميه

٢٦

أولاً : الجغرافيا**السؤال الأول : (أ) أمامك خريطة صماء لمصر وضع مدلول الأرقام الموقعة عليها :**

- ١- جبل
جبل القوس
- ٢- وادى
وادي النيل
- ٣- محمية جزيرة بأسوان.
محمية جزيرة سانت بطرس
- ٤- مدينة
مدينة الأقصر
- ٥- مدينة
مدينة أسبوط

(ب) اكتب ما تدل عليه كل عبارة :

- ١- مجار مائية كانت تجرى بها المياه قديماً ثم جفت.
- ٢- تدهور التربة الزراعية وانخفاض قدرتها الإنتاجية.
- ٣- امتداد أرضى من اليابس داخل البحر.

(ج) بم تفسر؟

- ١- ضيق السهول الساحلية المطلة على البحر الأحمر.
- ٢- ارتفاع نسبة الوفيات بين أطفال البيئة الصحراوية.

السؤال الثانى : (أ) اكتب كلمة (صح) أو كلمة (خطأ) أمام العبارات الآتية :

- ١- يعتمد سكان الواحات على المياه الجوفية فى الزراعة. ()
- ٢- يتميز سكان البيئة الصحراوية بإكرام الضيف. ()
- ٣- يستخرج الذهب من منطقة أم بجمة بالصحراء الشرقية. ()

(ب) ما النتائج المترتبة على ؟

- ١- قلة الأمطار فى البيئة الصحراوية.
- ٢- صفاء مياه البحر الأحمر وهدوء حرقتها.

ثانياً : التاريخ

السؤال الثالث : (أ) لمن تنسب الأعمال الآتية ؟

- ١- تأسيس جريدة اللواء ١٩٠٠م.
- ٢- أمر بتجنيد أولاد عمد البلاد ومشايخها.
- ٣- أبرز شهداء حرب الاستنزاف واستشهد وسط قواته.

(ب) أكمل العبارات الآتية :

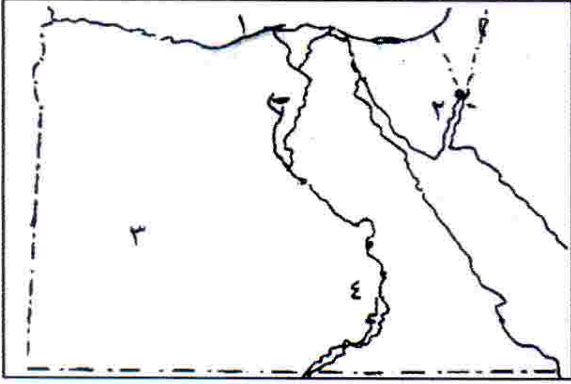
- ١- تولى سعد زغلول عام ١٩٠٦م نظارة
- ٢- يرتبط اسم بالاستقلال الاقتصادى لمصر.
- ٣- تم افتتاح فى عام ١٩٧١م.
- ٤- تم تسليم السلطة فى ٣ يوليو ٢٠١٣ م للمستشار
- ٥- أثناء ثورة ٢٥ يناير تم قطع جميع وسائل

السؤال الرابع : (أ) بم تفسر؟

- ١- ازدياد التدخل الأجنبى فى شئون مصر.
- ٢- تعد ثورة ١٩١٩م ثورة شعبية عامة.
- ٣- فشل العدوان الثلاثى على مصر ١٩٥٦م.
- ٤- تكوين اللجان الشعبية فى جميع انحاء الجمهورية أثناء الثورة.

(ب) رتب الأحداث التاريخية من القديم للحديث :

- (تصريح ٢٨ فبراير - اتفاقية الجلاء - الثورة العرابية - ثورة ١٩١٩م
- الحرب العالمية الأولى)

أولاً : الجغرافياالسؤال الأول : (أ) أمامك خريطة صماء لمصر اكتب مدلول الأرقام:

- ١- خليج على ساحل البحر المتوسط
- ٢- مدينة ٢٦
- ٣- بحر بحر الأحمر
- ٤- محمية داخل النيل سوهاج

(ب) أكمل العبارات التالية بوضع كلمة مناسبة :

- ١- تشتهر منطقة أبو طرطور بالوحدات الداخلة باستخراج معدن
- ٢- يحد الصحراء الشرقية من جهة الشمال منطقة شرق
- ٣- المنظر الخلاب يجذب السياح بالصحراء البيضاء لسياحة
- ٤- من أمثلة الامتداد الأرضي داخل البحر المتوسط على الساحل الغربي رأس

السؤال الثاني : (أ) اختر الإجابة الصحيحة مما بين القوسين:

- ١- أهم النباتات الطبيعية على ساحل البحر الأحمر
- (الزيتون - المانجروف - النخيل - كل ما سبق)
- ٢- أقل محافظات الحدود المصرية سكاناً
- (الوادي الجديد - البحر الأحمر - جنوب سيناء - شمال سيناء)
- ٣- كل مما يأتي من المشاكل البيئية في البيئة الصحراوية ما عدا
- (حركة الرمال - خصوبة التربة - زيادة التصحر - السيول المدمرة)
- ٤- يخترق وادي العريش سيناء ليصب في البحر المتوسط.
- (وسط - شمال - غرب - شرق)

(ب) ماذا يحدث ؟

- ١- لم تتعرض الإسكندرية خلال فصل الشتاء للنوات.
- ٢- نجحت الدولة في توفير المدارس والمستشفيات الحديثة بالبيئة الصحراوية.

ثانياً : التاريخالسؤال الثالث : (أ) اكتب اسم الشخصية التي قامت بالأعمال الآتية :

- ١- أسس بنك مصر عام ١٩٢٠م.
- ٢- فاز بأخر انتخابات رئاسية مصرية.
- ٣- اهتمت بمشروعات البنية التحتية وإنشاء المدارس خلال ثلاثين عام من حكمه لمصر.
- ٤- قاد ثورة ١٩٥٢م وأسس تنظيم الضباط الأحرار.

(ب) ما النتائج المترتبة على ؟

- ١- قبول الحكومة المصرية لتصريح ٢٨ فبراير ١٩٢٢م.
- ٢- كفاح الزعيم الوطنى مصطفى كامل.
- ٣- تأميم قناة السويس.

السؤال الرابع : (أ) صوب ما تحته خط:

- ١- كان شعار ثورة ٢٥ يناير ٢٠١١ م (الاتحاد - النظام - العمل) .
- ٢- مد الزعيم محمد فريد نشاط الحركة الوطنية إلى آسيا .
- ٣- وصل أحمد عرابى إلى رتبة الأدميرال فى عهد الخديو توفيق.
- ٤- أعلنت بريطانيا الوصاية على مصر فى الفترة من ١٩١٤م وحتى عام ١٩٢٢م.

(ب) " قامت فى مصر الحديثة ثورة شعبية وأخرى قام بها الشعب

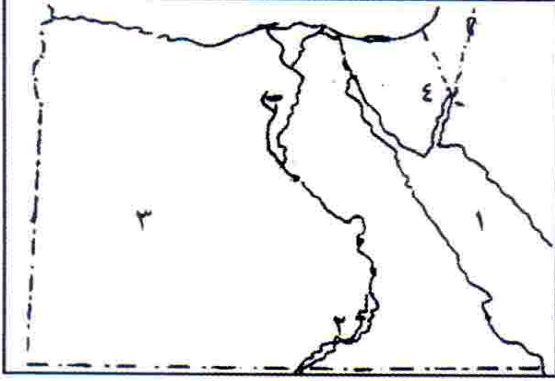
وأيدها الجيش وثالثة قام بها الجيش وأيدها الشعب "

فى ضوء هذه العبارة وضع :

- ١- ما المقصود بتنظيم الضباط الأحرار؟
- ٢- لماذا كانت ثورة ١٩١٩م ثورة شعبية عامة؟
- ٣- ظهر تلاحم الجيش مع الشعب فى الدفاع عن أرض الوطن فى ١٩٥٦ و ١٩٧٣ م وضح ذلك.

أولاً : الجغرافيا

السؤال الأول : (أ) أمامك خريطة صماء لمصر اكتب مدلول الأرقام:



- ١- البحر البحر الأحمر
- ٢- بحيرة نهر النيل
- ٣- الصحراء العزيم
- ٤- خليج السويس

(ب) اعط تعريفًا صحيحًا لكل من المفاهيم الآتية :

- ١- أودية جافة
- ٢- تملح التربة
- ٣- الشرم

السؤال الثاني : (أ) اختر الإجابة الصحيحة مما بين القوسين:

- ١- يحد صحراء مصر الغربية من ناحية الشرق
- (وادى النيل - البحر الأحمر - البحر المتوسط - السودان)
- ٢- من أشهر القبائل التي تعمل بحرفة الرعى فى الصحراء الغربية
قبيلة أولاد
- (عامر - عابد - على - الشاهرى)
- ٣- من أهم النباتات الطبيعية على ساحل البحر الأحمر أشجار
- (الصفصا - المانجروف - البلوط - الأرز)
- ٤- توجد بعض العادات السلبية فى البيئة الصحراوية منها
- (الزواج المبكر - الشجاعة - التعاون - كرم الضيافة)
- ٥- من جبال شبه جزيرة سيناء جبل
- (الشايب - موسى - علبة - العوينات)

(ب) بم تفسر؟

- ١- تركز سكان البيئة الصحراوية في الواحات.
- ٢- ضيق السهل الساحلى المطل على البحر الأحمر.

ثانياً : التاريخ :

السؤال الثالث : (أ) إلى من تنسب الأعمال الآتية :

- ١- أسس جريدة اللواء عام ١٩٠٠م.
- ٢- دعا إلى إنشاء مدارس ليلية لتعليم العمال و الفقراء مجاناً.
- ٣- شكل أول حكومة دستورية فى مصر عام ١٩٢٤ م.
- ٤- قاد مظاهرة عابدين السلمية ٩ سبتمبر ١٨٨١ م.
- ٥- تأسس بنك مصر عام ١٩٢٠ م.

(ب) بم تفسر؟ سبب واحد يكفى :

- ١- فشل العدوان الثلاثى على مصر.
- ٢- عقد معاهدة السلام بين مصر و إسرائيل مارس ١٩٧٩ م.

السؤال الرابع : (أ) اكتب كلمة (صح) أو كلمة (خطأ) أمام العبارات الآتية :

- ١- التحق أحمد عرابى بالجيش المصرى فى عهد توفيق باشا. ()
- ٢- تخلت فرنسا عن تأييدها للحركة الوطنية بقيادة مصطفى كامل بعد الاتفاق الودى ١٩٠٤م. ()
- ٣- رفضت سلطات الاحتلال سفر أعضاء الوفد المصرى إلى باريس. ()
- ٤- نجحت ثورة ٢٥ يناير فى إسقاط الرئيس والنظام الحاكم. ()
- ٥- من نتائج حرب أكتوبر ١٩٧٣ عودة الملاحة لقناة السويس. ()
- ٦- سعد زغول تزعم الثورة العرابية. ()

(ب) رتب الأحداث الآتية من القديم إلى الحديث:

(افتتاح السد العالى – مظاهرة عابدين – تأسيس بنك مصر – حادثة دنشواى)

والآن مع الإجابات النموذجية

إجابة اختبار عام (٢) على الوحدة الرابعة

- ج١ : ١- (صح) ٢- (خطأ) ٣- (صح) ٤- (خطأ)
 ج٢ : ١- ٢٥ يناير ٢٠١١ م ٢- رأس النظام السياسى .
 ٣- ارتفاع الأسعار وانخفاض الدخل . ٤- الاسلام واللاحرب .
 ج٣ : ١- الوطنى ٢- فساد الحكام ٣- الجزائر ٤- إسرائيل .
 ج٤ : ١- عدالة اجتماعية ٢- خط بارليف ٣- تنظيم الضباط الأحرار .
 ٤- حرب الاستنزاف .
 ج٥ : ١- بسبب مناصرة مصر لحركات التحرر فى آسيا وإفريقيا، القضاء على زعامة مصر للعالم العربى .
 ٢- بسبب وقوف الجيش والشعب بجانب قيادته السياسية ووقوف الشعوب العربية ومعارضة الاتحاد السوفيتى وتهديده بالتدخل العسكرى .
 ٣- لحماية الثورة والممتلكات العامة والخاصة والمنازل .
 ٤- بسبب التدريب المستمر والإصرار والسرية التامة فى وضع الخطط .

إجابة الاختبار الأول

أولاً : الجغرافيا

- ج١ : (أ) ١- العوينات ٢- الأحمر ٣- أم بجمة ٤- سالوجا .
 (ب) ١- أدى إلى حدوث السيول .
 ٢- أدى إلى اتصاف سكان البيئة الساحلية بالشجاعة ومشاركة المرأة للرجل فى معظم الأعمال .
 ٣- أدى إلى نمو الشعاب المرجانية فى البحر الأحمر .
 ج٢ : (أ) ١- (خطأ) أصغر من ٢- (صح) ٣- (خطأ) الصحراء الشرقية ٤- (صح) ٥- (خطأ) مليون نسمة ٦- (خطأ) يفعل الأمواج .
 (ب) ١- يزداد عدد السكان وتقوم الزراعة ٢- لم توجد فى مصر بيئة ساحلية .

ثانياً : التاريخ

- ج٣ : (أ) ١- مصطفى كامل ٢- كفر الدوار ٣- سوريا ٤- طلعت حرب .
 (ب) ١- أن الدولة التى تمتلك جيشًا قويًا تجد لها مكانًا بين دول العالم وتحقق نهضة شاملة .
 ٢- أن الخيانة سببًا فى هزيمة عرابى فى معركة التل الكبير والمصريين هم من يدافعون عن مصر .
 ٣- أن العرب قوة إذا اتحدوا فى وجه أعدائهم .
 ج٤ : (أ) ١- بسبب : أ) استمرار سوء الأحوال الاقتصادية والاجتماعية والسياسية .
 ب) لم تقدم السياسات الجديدة حلولاً للمشكلات .
 ج) ازدياد الأصوات المعارضة للحكم ، والمطالبة بإجراء انتخابات رئاسية مبكرة .
 ٢- بسبب : وقوف الجيش والشعب بجانب قيادته وتضامن الشعوب العربية ومعارضة الاتحاد السوفيتى له وتهديده بالتدخل العسكرى .
 ٣- بسبب : ازدياد الوعى القومى عند المصريين بالإضافة إلى الإجراءات العنيفة للإنجليز أثناء الحرب العالمية الأولى .
 (ب) ١- جمال عبد الناصر . ٢- محمد فريد .

إجابة الاختبار الثانى

أولاً : الجغرافيا

- ج١ : (أ) ١- المتوسط ٢- الجلف الكبير ٣- السويس ٤- القطار .
 (ب) ١- كثبان رملية ٢- المدينة المليونية ٣- تآكل الشواطئ .

- ج ٢ : (أ) ١- بسبب: قلة الموارد وندرة الأراضي الزراعية ومن ثم نقص الغذاء .
 - الهجرة للبيئات الأخرى نتيجة قلة الموارد وانخفاض مستوى المعيشة .
 - الاعتماد على البيئات الأخرى خاصة البيئة الزراعية .
 ٢- بسبب: تبخر المياه وترسب الملح على سطح التربة .
 ٣- بسبب: تمتعها بالنباتات والحيوانات والطيور النادرة .
 - تعدد المزارات السياحية .
 - مناظرها الخلابة مما يجذب السياح لسياحة السفارى .
 - توفر المنشآت من فنادق ومخيمات وطرق جيدة لخدمة السياحة .
- (ب) ١- قد يؤدي ذلك إلى افتقار عنصر الجذب السياحي لمصر وقلة أعداد السائحين الوافدين إليها لعدم توافر الخدمات السياحية .
 ٢- لم يتم تخزين مياه الأمطار .

ثانياً : التاريخ

- ج ٣ : (أ) ١- التل الكبير . ٢- السويس . ٣- سعيد . ٤- تنظيم الضباط الأحرار .
 (ب) ١- أدى إلى قيام الشعب المصرى بثورة ٢٥ يناير ٢٠١١م . ٢- أدى إلى العدوان الثلاثى على مصر .
 ٣- أدى إلى قيام الثورة مرة أخرى فى مصر ، وإصدار تصريح ٢٨ فبراير .
 ج ٤ : (أ) ١- سعد زغلول . ٢- محمد فريد . ٣- مصطفى كامل . ٤- طلعت حرب . ٥- ولسن .
 (ب) أجب بنفسك .

إجابة الاختبار الثالث

أولاً : الجغرافيا

- ج ١ : (أ) (١) الفيوم . (٢) الشرقية . (٣) الإسكندرية . (٤) ناصر .
 (ب) (١) - لتمتعها بالنباتات والحيوانات والطيور البرية النادرة .
 - مناظرها الخلابة مما يجذب سياحة السفارى .
 - تعدد المزارات السياحية مثل دير سانت كاترين .
 - توفر المنشآت من فنادق ومخيمات .
 (٢) بسبب صفاء وهدوء حركة المياه فى البحر الأحمر .
 (٣) لأنها تستخدم فى تخزين مياه الأمطار الشتوية - الاستفادة منها .
- ج ٢ : (أ) (١) (صح) (٢) (صح) (٣) (خطأ) ندرة الأمطار . (٤) (صح)
 (ب) (١) يقل تركيز السكان فى البيئة الصحراوية .
 (٢) لما تعرض الإنسان للضرر/وكذلك المحاصيل الزراعية .
 (٣) يقل عدد السياح القادمين إلى مصر - ولم تقم سياحة الشواطئ .
 (ج) (١) للاستفادة من مياه السيول .
 (٢) بسبب نحت الأمواج لساحل الدلتا .
 (٣) بسبب إلقاء المخلفات فى مياه البحر ، والتلوث الناتج عن حركة السفن ونقل البترول .

ثانياً : التاريخ

- ج ٣ : (أ) (١) عدلى منصور . (٢) إسرائيل . (٣) تشكيل مجلس النواب .
 (٤) محمد فريد . (٥) الضباط الأحرار . (٦) بريطانيا .
 (ب) (١) بسبب: ازدياد الوعي القومى والدعوة للتحرر - الإجراءات العنيفة التى فرضتها بريطانيا على مصر - إعلان الرئيس الأمريكى ولسن مبادئه فى حق الشعوب فى تقرير مصيرها .
 (٢) لأنه اعترف بالحماية البريطانية على مصر .

- ج ٤ : (أ) معركة التل الكبير - الاتفاق الودى - حادثة دنشواى - نفى سعد زغلول - صدور أول دستور مصرى .
 (ب) (١) طلعت حرب : أنشأ بنك مصر عام ١٩٢٠ م لتمويل المشروعات الوطنية .
 (٢) أحمد عرابى : قاد مظاهرة عابدين فى سبتمبر ١٨٨١ م وعرض مطالب الجيش والشعب على الخديو توفيق .
 (٣) محمد فريد : رفض مد امتياز شركة قناة السويس عام ١٩١٠ م .
 (ج) أجب بنفسك .

إجابة الاختبار الرابع

أولاً : الجغرافيا

- ج ١ : (أ) (١) المتوسط . (٢) البحر الأحمر . (٣) النيل . (٤) التيه .
 (ب) (١) بسبب إلقاء مخلفات الصرف فى مياه البحر - التلوث الناتج عن حركة السفن وناقلات البترول .
 (٢) بسبب اقتراب الجبال من ساحل خليج العقبة .
 (٣) بسبب صفاء وهدوء حركة المياه فى البحر الأحمر .
 ج ٢ : (أ) (١) (صح) (٢) (خطأ) - ندرة الأمطار (٣) (صح) (٤) (صح) (ب) (١) أدى إلى قيام حرفة الزراعة .
 (٢) أدى إلى عمل بعض سكان البيئة الصحراوية بحرفة التعدين واستخراج البترول ، والاستقرار فى المراكز العمرانية القريبة منها .
 (٣) أدى إلى تسهيل حركة التجارة - ربط البيئة الصحراوية بالوادى والدلتا

ثانياً : التاريخ

- ج ٣ : (أ) (١) محمد فريد . (٢) سعد زغلول . (٣) اللواء . (٤) مالطة .
 (ب) ١- الدستور : هو مجموعة من المبادئ والقوانين التى تحدد نظام الحكم فى الدولة .
 ٢- عدالة اجتماعية : هى توزيع الثروات القومية بين المواطنين توزيعاً عادلاً .
 ج ٤ : (أ) (١) فرنسا . (٢) سعيد . (٣) محمد فريد . (٤) حرب أكتوبر . (٥) الشعب المصرى . (٦) طلعت حرب .
 (ب) (١) سوء الأوضاع السياسية والاقتصادية والاجتماعية والتعليمية والصحية للدولة .
 (٢) أجب بنفسك .

إجابة الاختبار الخامس

أولاً : الجغرافيا

- ج ١ : (أ) (١) الأحمر . (٢) السويس . (٣) الغربية . (٤) السلوم .
 (ب) (١) بسبب انخفاض مستوى المعيشة وقلة الموارد - يعمل معظم سكان البيئة الصحراوية بحرفة الرعى والزراعة .
 (٢) بسبب (أ) إلقاء مخلفات الصرف الصحى والصناعى والزراعى فى مياه البحر .
 (ب) التلوث الناتج عن حركة سفن الشحن وناقلات البترول .
 (٣) بسبب : توفر الموارد الغذائية والمواد الخام - توفر المناظر الطبيعية الهامة التى تعتبر مقصدًا للترويج والجذب السياحى - المنطقة الساحلية مجالاً حيويًا للنقل البحرى والتجارة .

| وجه المقارنة | البيئة الصحراوية | البيئة الساحلية |
|---------------|---|---|
| عادات السكان | <p>(أ) عادات إيجابية مثل :</p> <p>١- الحفاظ على التقاليد والتراث القديم.</p> <p>٢- احترام المجالس العرفية التي يرأسها شيخ القبيلة .</p> <p>٣- إكرام الضيف .</p> <p>(ب) عادات سلبية مثل :</p> <p>١- الزواج المبكر .</p> <p>٢- عمل الأطفال فى الرعى والزراعة.</p> <p>٣- العلاج بوسائل بدائية مما يؤدي إلى زيادة عدد الوفيات بين الأطفال .</p> | <p>(أ) عادات إيجابية : عادات إيجابية</p> <p>١- العمل الجماعى لأن أعمال البيئة الساحلية تحتاج إلى التعاون .</p> <p>٢- حب المخاطرة والشجاعة .</p> <p>٣- مشاركة المرأة للرجل بنصيب وافر فى الأعمال .</p> <p>(ب) عادات سلبية :</p> <p>١- الهجرة غير الشرعية .</p> <p>٢- تصريف المخلفات المنزلية والصناعية فى البحر .</p> <p>٣- الصيد غير القانونى .</p> |
| مشكلات البيئة | <p>١- ندرة الماء .</p> <p>٢- حركة الرمال .</p> <p>٣- السيول .</p> <p>٤- تملح التربة .</p> | <p>١- تلوث المياه الشاطئية .</p> <p>٢- تآكل السواحل بفعل نحت الأمواج .</p> |

(ب) (١) صح . (٢) خطأ . (صناعة السجاد اليدوى) (٣) خطأ . (أولى البحيرات) (٤) صح .

ثانياً : التاريخ

ج ٣ : (أ) (١) بسبب : - سوء الأوضاع الاقتصادية والاجتماعية والسياسية .

- انتشار الفساد فى جميع مرافق الدولة .

- تزوير انتخابات مجلس الشعب والشورى وسيطرة الحزب الوطنى .

(٢) لتعليم العمال والفقراء مجاناً .

(٣) لأنه اعترف بالحماية البريطانية على مصر ، ولم تأت قراراته لصالح القضية المصرية .

(٤) بسبب إعلان تأميم شركة قناة السويس فى يوليو ١٩٥٦ م .

(ب) (١) اللواء . (٢) بريطانيا . (٣) مصر . (٤) ١٩٧٥ م .

ج ٤ : (أ) (١) بسبب : انتشار الفساد فى مرافق الدولة وجميع مؤسساتها .

(٢) تلاحم الجيش مع الشعب - نزول القوات المسلحة إلى الشوارع والميادين .

(٣) إسقاط النظام السياسى ، ووضع خطة زمنية لإجراء انتخابات رئاسة

الجمهورية ووضع دستور جديد .

(٤) أجب بنفسك .

(ب) (١) طلعت حرب . (٢) أحمد عرابى . (٣) سعد زغلول .

(٤) جمال عبد الناصر . (٥) مصطفى كامل . (٦) محمد فريد .

إجابة الاختبار السادس

أولاً : الجغرافيا

- ج ١ : (أ) (١) البرلس. (٢) رأس محمد. (٣) أم بجمة. (٤) العوينات.
 (ب) (١) أدى إلى : إتلاف الحقول الزراعية - تعطيل حركة النقل على الطرق
 - ردم الآبار - زيادة التصحر.
 (٢) أدى إلى إزالة الشواطئ الرملية - تدمير بعض الشاليهات المخصصة للاصطياف
 (٣) أدى إلى تدهور الثروة السمكية وانتشار الأمراض للإنسان.
 ج ٢ : (أ) (١) الحدود. (٢) الزراعية. (٣) الحرفية.
 (٤) الساحلية. (٥) البحر الأحمر. (٦) برج العرب.
 (ب) أجب بنفسك.
 (ج) (١) تشجيع المستثمرين على إنشاء المنتجعات والفنادق في البيئة الصحراوية.
 (٢) تشجيع سياحة السفارى .

ثانياً : التاريخ

- ج ٣ : (أ) (١) صح. (٢) خطأ (رياض باشا). (٣) صح.
 (٤) خطأ (أموال وطنية). (٥) صح.
 (ب) (١) بسبب :
 ١- تلاحم الجيش والشعب بجانب قيادته السياسية.
 ٢- تضامن الشعوب العربية بجانب مصر .
 ٣- معارضة الاتحاد السوفيتي (روسيا حالياً) للعدوان وتهديدها بالتدخل العسكرى.
 (٢) بسبب : الخداع الاستراتيجي - العقيدة القتالية - قوة الإيمان - التعاون العربى .
 ج ٤ : (أ) (١) عدلى منصور (٢) مصطفى كامل. (٣) محمد فريد. (٤) الرئيس محمد أنور السادات.
 (ب) (١) حيث عقدت اتفاقية الجلاء بين مصر وبريطانيا في أكتوبر ١٩٥٤م.
 (٢) تحقيق الكرامة والحرية والعدالة الاجتماعية للمواطن المصرى.
 (٣) أجب بنفسك.

إجابة الاختبار السابع

أولاً : الجغرافيا

- ج ١ : (أ) (١) البحر الأحمر. (٢) القطارة. (٣) العقبة. (٤) سيناء.
 (ب) (١) لم تقم الزراعة على الساحل الشمالى لمصر.
 (٢) لم يتركز السكان فى الواحات - يقل عدد السكان فى البيئة الصحراوية .
 (٣) لم تعد السياحة أحد الأنشطة الاقتصادية الهامة فى البيئة الصحراوية .
 ج ٢ : (أ) (١) خطأ (الصحراء الغربية أكبر الصحارى مساحة) (٢) خطأ (على وادى العريش).
 (٣) صح. (٤) صح. (٥) صح. (٦) صح.
 (ب) ١- الرأس الأرضي : هو امتداد أرضى من اليابس داخل البحر .
 ٢- الواحات : هى أرض منخفضة بالصحراء تقوم بها الزراعة على المياه الجوفية
 (الآبار والعيون) .
 (ج) أجب بنفسك.

ثانياً : التاريخ

- ج ٣ : (أ) (١) التل الكبير . (٢) إسماعيل . (٣) دنشواى .
 (٤) الجزائر . (٥) دستور عام ١٩٢٣ م . (٦) سعد زغول .
 (ب) (١) بسبب : سوء الأوضاع الاقتصادية والسياسية والاجتماعية – انتشار الفساد
 فى جميع مرافق الدولة .
 (٢) بسبب : إعلان مصر تأميم شركة قناة السويس فى يوليو ١٩٥٦ م .
 ج ٤ : (أ) (١) سعد زغول . (٢) محمد فريد . (٣) اللواء .
 (٤) قانون الإصلاح الزراعى . (٥) عبد المنعم رياض .
 (ب) أجب بنفسك .
 (ج) عزل الرئيس محمد مرسى وتسليم السلطة للمستشار عدلى منصور لحين إجراء انتخابات
 رئاسية مبكرة .

إجابة الاختبار الثامن

أولاً : الجغرافيا

- ج ١ : (أ) (١) البردويل . (٢) البحرية . (٣) الأحمر . (٤) سانت كاترين .
 (ب) (١) بسبب : وجود مناطق الأودية أو الواحات حيث مصادر المياه ومناطق
 السهول القريبة من السواحل حيث سقوط بعض الأمطار .
 (٢) بسبب اقتراب الجبال من ساحل خليج العقبة .
 (٣) لأن الرجال يقضون معظم أوقاتهم فى الأعمال المرتبطة بالبحر .
 ج ٢ : (أ) (١) خطأ (الأغنام والماعز) . (٢) صح .
 (٣) خطأ (من رفح إلى السلوم) . (٤) خطأ (على ساحل البحر الأحمر) .
 (٥) خطأ (جذب سكانى) . (٦) صح .
 (ب) (١) زادت نسبة التعليم فى البيئة الصحراوية وتحسنت أحوال البيئة الصحراوية .
 (٢) تعرضت السواحل للتآكل .

ثانياً : التاريخ

- ج ٣ : (أ) (١) مصر الفتاة . (٢) القاهرة . (٣) سوريا . (٤) سيناء .
 (٥) كل ما سبق . (٦) إنجلترا .
 (ب) أجب بنفسك .
 ج ٤ : (أ) (١) أحمد عرابى . (٢) سعد زغول . (٣) ولسن . (٤) جمال عبد الناصر .
 (ب) (١) أدى إلى مقاومة الاحتلال البريطانى داخل مصر/ ورفض وجوده .
 (٢) أدى إلى : (أ) تغيير استراتيجيات الحرب فى العالم .
 (ب) القضاء على أسطورة الجيش الإسرائيلى الذى لا يقهر .
 (ج) عودة الملاحة البحرية لقناة السويس يونيو ١٩٧٥ م .

- (٣) أدى إلى : (أ) ارتفاع الوعي السياسى لدى الشعب المصرى .
 (ب) حل مجلس الشعب والشورى .
 (ج) إسقاط النظام السياسى .

إجابة الاختبار التاسع

أولاً : الجغرافيا

- ج ١ : (أ) (١) المتوسط . (٢) مارماريكا . (٣) العقبة . (٤) الفيوم .
 (ب) (١) حركة الرمال . (٢) تآكل السواحل .
 (ج) (١) أدى إلى : أصبحت من عادات سكان البيئة الساحلية العمل الجماعى والتعاون - حب المخاطرة والشجاعة فى مواجهة أخطار البحر .
 (٢) أدى إلى نمو الشعاب المرجانية على ساحل البحر الأحمر .
 ج ٢ : (أ) (١) بسبب : (أ) انخفاض مستوى المعيشة . (ب) قلة الموارد .
 (٢) بسبب تبخر المياه وترسب الملح على سطح التربة وداخل مسامها .
 (٣) بسبب ابتعاد الجبال عن ساحل البحر المتوسط .
 (٤) بسبب إلقاء مخلفات الصرف فى مياه البحر - التلوث الناتج عن سفن الشحن وناقلات البترول .
 (ب) (١) لم يحدث تنمية للبيئة الصحراوية - لم تعد السياحة أهم الأنشطة الاقتصادية فى البيئة الصحراوية .
 (٢) لم يتم تخزين مياه الأمطار ولم يتم الاستفادة منها .

ثانياً : التاريخ

- ج ٣ : (أ) (١) حلوان للحديد والصلب . (٢) المؤتمرات . (٣) سعيد باشا . (٤) ولسن - الأولى .
 (ب) (١) أدى إلى : قيام ثورة ٢٥ يناير ٢٠١١ م
 (٢) أدى إلى العدوان الثلاثى على مصر .
 (٣) أدى إلى تجدد الثورة مرة ثانية - لجأ المصريون إلى المقاطعة للبضائع والسفن والبنوك البريطانية - إصدار تصريح ٢٨ فبراير عام ١٩٢٢ م .
 ج ٤ : (أ) (١) عدلى منصور . (٢) مصطفى كامل . (٣) طلعت حرب . (٤) أحمد عرابى .
 (ب) (١) ١- تغيير نظرة العالم للجيش المصرى .
 ٢- القضاء على أسطورة التفوق المطلق للجيش الإسرائيلى .
 ٣- عودة الملاحة لقناة السويس فى يونيو ١٩٧٥ م .
 (٢) بسبب : (أ) استمرار سوء الأحوال الاقتصادية والاجتماعية والسياسية .
 (ب) ازدياد الأصوات المعارضة للحكم والمطالبة بإجراء انتخابات مبكرة .
 (٣) أجب بنفسك .

إجابة الاختبار العاشر

أولاً : الجغرافيا

- ج ١ : (أ) (١) الشرقية . (٢) سيناء . (٣) الإسكندرية . (٤) ناصر .
 (ب) (١) بسبب صفاء وهدوء حركة المياه في البحر الأحمر .
 (٢) بسبب جهود الدولة في مواجهة مشكلات التعليم في البيئة الصحراوية .
 (٣) لأن أعمال البيئة الساحلية تحتاج إلى التعاون مثل أعمال الصيد والشحن وتفرغ السفن .
- ج ٢ : (أ) (١) الشمالي . (٢) المنزلة . (٣) الزيتون . (٤) سيوة .
 (٥) الصيد . (٦) الإسكندرية .
 (ب) (١) أدى إلى : (أ) إتلاف المحاصيل الزراعية .
 (ب) تعطيل حركة النقل على الطرق .
 (ج) ردم الآبار . (د) زيادة التصحر .
 (٢) أدى إلى : نمو الشعاب المرجانية على طول ساحل البحر الأحمر .

ثانياً : التاريخ

- ج ٣ : (أ) (١) التل الكبير . (٢) مصطفى كامل .
 (٣) إنجلترا - إسرائيل . (٤) المعتمد البريطاني . (٥) اللواء .
 (ب) الثورة العربية عام ١٨٨١ م - الحرب العالمية الأولى ١٩١٤ م - ثورة ١٩١٩ م -
 تصريح ٢٨ فبراير ١٩٢٢ م
- ج ٤ : (أ) (١) شارك محمد فريد في العديد من المؤتمرات لبحث المشكلات السياسية والاقتصادية
 لمصر .
 (٢) تأسيس طلعت حرب بنك مصر عام ١٩٢٠ م لتمويل المشروعات الوطنية .
 (٣) قضى على الإقطاع - توزيع الأراضي الزراعية على الفلاحين .
 (ب) ١- عدالة اجتماعية : هي توزيع الثروات القومية بين المواطنين توزيعاً عادلاً .
 ٢- حرب الاستنزاف : هي الفترة ما بعد حرب ١٩٦٧ م حتى قبل حرب أكتوبر ١٩٧٣ م ،
 وهي عبارة عن غارات متقطعة قامت بها قواتنا المسلحة
 المصرية ضد العدو الإسرائيلي لاستنزاف قوة العدو العسكرية
 ومحو هزيمة ١٩٦٧ م .

مع أطيب أمنيات أسرة فادة الدراسات الاجتماعية بسلسلة

كتب قطر الندى بالنجاح والتفوق